



たしざんと
ひきざん 5

● みかんのあめはなんこ？
(きゅうだい)



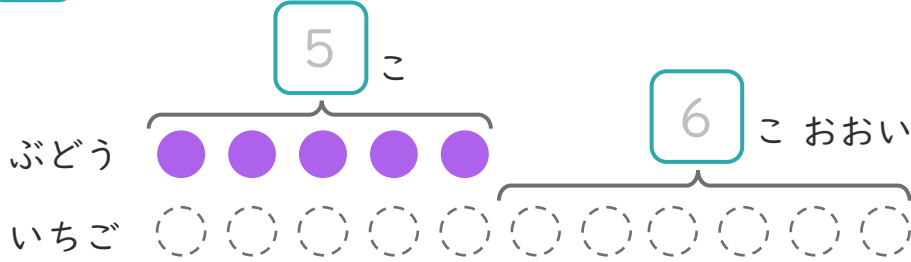
日にち： 月 日

名まえ _____

1 ぶどうのあめが 5 こあります。

いちごのあめは、りんごのあめより 6 こおいそうです。

① にあうかずをかきましょう。(うすいじはなぞりましょう。)



○にいろをぬりましょう。

② いちごのあめはなんこありますか。

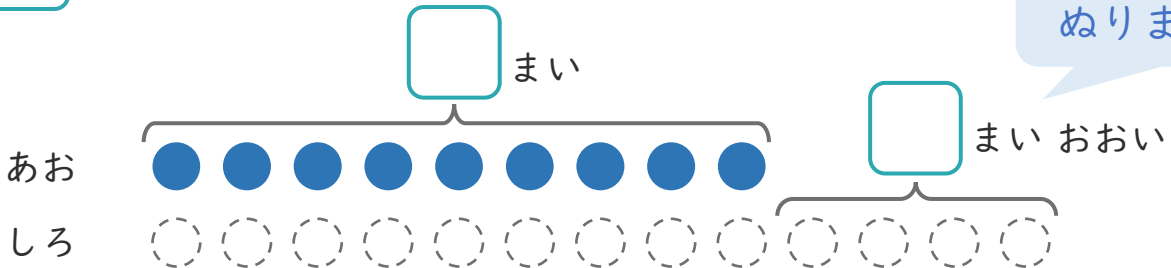
しき：

こたえ {

2 あおいかみを 9 まいかいました。

しろいかみは、あおいかみより 4 まいおおくかいました。

① にあうかずをかきましょう。



○にいろをぬりましょう。

② しろいかみはなんまいかいましたか。

しき：

こたえ {





たしざんと
ひきざん 5

● みかんのあめはなんこ？
(きゅうだい)



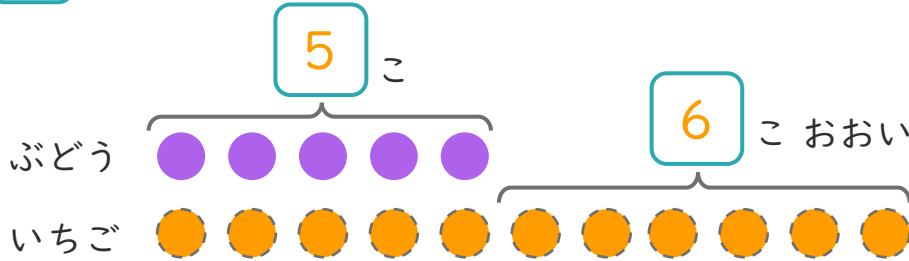
日にち： 月 日

名まえ _____

1 ぶどうのあめが 5 こあります。

いちごのあめは、りんごのあめより 6 こおいそうです。

① にあうかずをかきましょう。(うすいじはなぞりましょう。)



○にいろをぬりましょう。

② いちごのあめはなんこありますか。

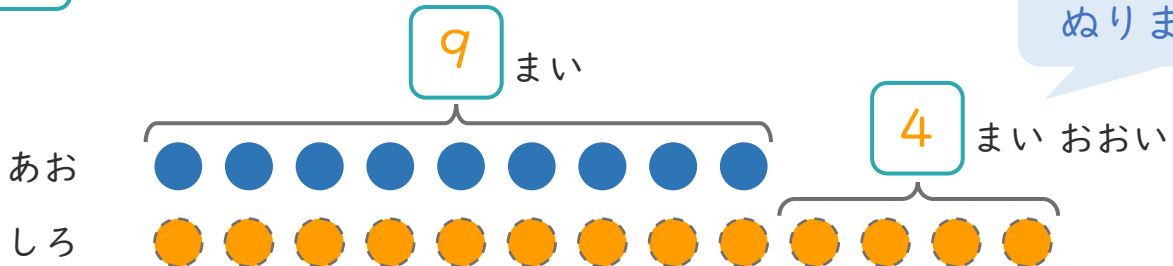
しき： $5 + 6 = 11$

こたえ { 11 こ }

2 あおいかみを 9 まいかいました。

しろいかみは、あおいかみより 4 まいおおくかいました。

① にあうかずをかきましょう。



○にいろをぬりましょう。

② しろいかみはなんまいかいましたか。

しき： $9 + 4 = 13$

こたえ { 13 まい }

