




どちらがおおい③

● コップでなんばい
はいりますか？




日にち： 月 日


名まえ _____

・ みずが  のかずだけはいります。


① あ



② い




③ う




①  でなんばいはいりますか。

① あ... はい ② い... はい ③ う... はい

② ①と②では、どちらがどれだけおおくはいりますか。

のほうが、 で はいぶんおおくはいる。

③ ②と③では、どちらがどれだけおおくはいりますか。

のほうが、 で はいぶんおおくはいる。






どちらがおおい③

● コップで なんばい
はいりますか？


5

日にち： 月 日


名まえ _____

・ みずが  のかずだけはいります。


① あ




② い



③ う



①  で なんばい はいりますか。

① あ... **4** はい い... **2** はい う... **8** はい

② ①と②では、どちらがどれだけおおくはいりますか。

①のほうか、 で **2** はいぶん おおく はいる。

③ ②と③では、どちらがどれだけおおくはいりますか。

③のほうか、 で **6** はいぶん おおく はいる。

