



くりあがりのある
たしざん ⑧


● えとぶんしょうから
しきをつくろう



日にち： 月 日

名まえ _____

1 けえきは あわせて なんこ ですか。しきをかきましょう。




4 こ




7 こ

しき： + =

2 にんじんは あわせて なんぽん ですか。しきをかきましょう。



6 ぽん



6 ぽん

しき： + =



くりあがりのある
たしざん ⑧


● えとぶんしょうから
しきをつくろう



日にち： 月 日

名まえ _____

1 けえきは あわせて なんこ ですか。しきをかきましょう。




4 こ




7 こ

しき： $\boxed{4} + \boxed{7} = \boxed{11}$

2 にんじんは あわせて なんぽん ですか。しきをかきましょう。



6 ぽん



6 ぽん

しき： $\boxed{6} + \boxed{6} = \boxed{12}$