



のこりはいくつ？

◎ 10 から ひく ひきざん



日にち： 月 日

名まえ _____

- ひきざんをしましょう。(うすいじはなぞりましょう。)

① $10 - 3 =$

7

② $10 - 1 =$

③ $10 - 5 =$

④ $10 - 6 =$

⑤ $10 - 8 =$



のこりはいくつ？

◎ 10 から ひく ひきざん

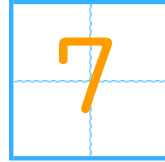


日にち： 月 日

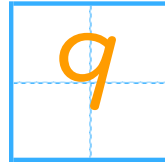
名まえ _____

- ・ ひきざんを しまししょう。(うすいじはなぞりまししょう。)

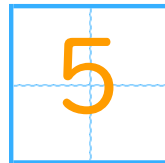
$$\textcircled{1} \quad 10 - 3 =$$



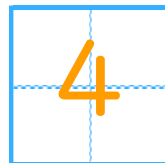
$$\textcircled{2} \quad 10 - 1 =$$



$$\textcircled{3} \quad 10 - 5 =$$



$$\textcircled{4} \quad 10 - 6 =$$



$$\textcircled{5} \quad 10 - 8 =$$

