



# あわせていくつ4

● あとからふえる



日にち：            月            日

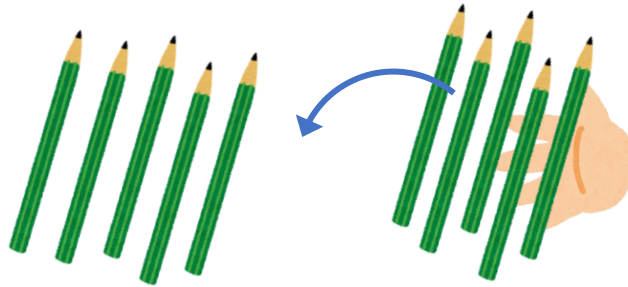
名まえ \_\_\_\_\_

・ しきにかいてこたえましょう。

① ゆいさんは えんぴつを 5ほん もっています。

おかあさんから 5ほん もらいました。

えんぴつは ぜんぶで なんぼん になりましたか。




しき


こたえ


ほん

② あひるが 3わ います。あとから 2わ きました。

あひるは みんなで なんわ になりましたか。



しき


こたえ


わ





# あわせていくつ4

● あとからふえる



日にち：            月            日

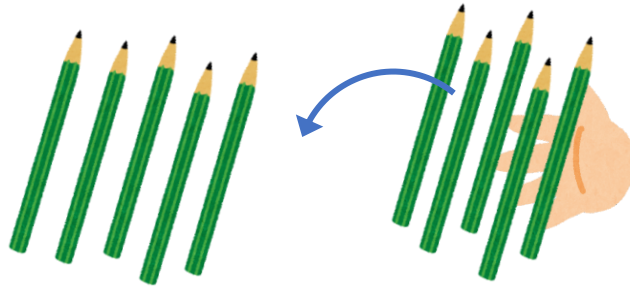
名まえ \_\_\_\_\_

・ しきにかいてこたえましょう。

① ゆいさんは えんぴつを 5ほん もっています。

おかあさんから 5ほん もらいました。

えんぴつは ぜんぶで なんぼんになりましたか。



しき

$$5 + 5 = 10$$


こたえ

10

ほん

② あひるが 3わ います。あとから 2わ きました。

あひるは みんなで なんわになりましたか。



しき

$$3 + 2 = 5$$

こたえ

5

わ

