



のこりはいくつ！

● えをみてかんがえよう

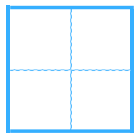

6

日にち： 月 日

名まえ _____


・ きんぎょがいます。すくうとのこりはなんびきでしょう。

①



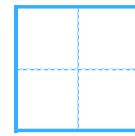
ぴき

いる



ぴき

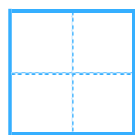
すくう



ぴき

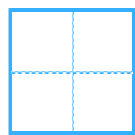
のこり

②



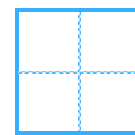
ぴき

いる



ひき

すくう



ぴき

のこり





のこりはいくつ！

● えをみてかんがえよう


6

日にち： 月 日

名まえ _____

・ きんぎょがいます。すくうとのこりはなんびきでしょう。

①



6 ぴき
いる

3 ぴき
すくう

3 ぴき
のこり

②



8 ぴき
いる

2 ぴき
すくう

6 ぴき
のこり

