



のこりはいくつ！

● えをみてかんがえよう


6

日にち： 月 日

名まえ _____

・ きんぎょがいます。すくうとのこりはなんびきでしょう。

①




びき
いる

びき
すくう

びき
のこり

②



びき
いる

ひき
すくう

びき
のこり



のこりはいくつ！

● えをみてかんがえよう



6

日にち： 月 日

名まえ _____

・ きんぎょがいます。すくうとのこりはなんびきでしょう。

①



6 びき
いる

3 びき
すくう

3 びき
のこり

②



8 びき
いる

2 びき
すくう

6 びき
のこり

