

くりあがりのある
たしざん 6

● くりあがりのけいさん
(4や3とたす)

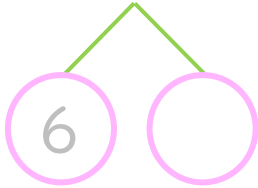


日にち： 月 日

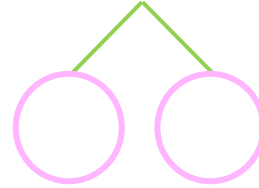
名まえ _____

・ けいさんをしましょう。(うすいじはなぞりましょう。)

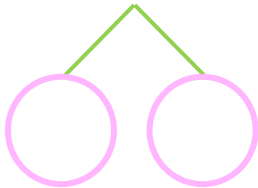
① $4 + 8 =$



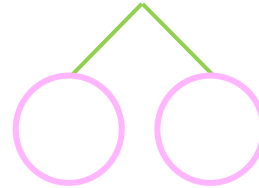
⑤ $4 + 7 =$



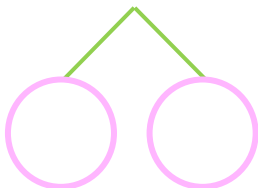
② $4 + 9 =$



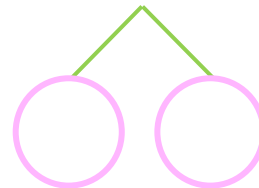
⑥ $3 + 9 =$



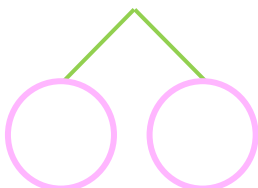
③ $3 + 8 =$



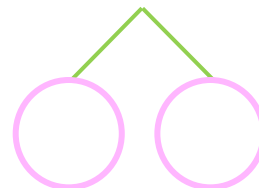
⑦ $4 + 8 =$



④ $3 + 9 =$



⑧ $4 + 9 =$





くりあがりのある
たしざん 6

● くりあがりのけいさん
(4や3とたす)



日にち： 月 日

名まえ _____

・ けいさんをしましょう。(うすいじはなぞりましょう。)

① $4 + 8 = 12$
10 6 2

⑤ $4 + 7 = 11$
10 6 1

② $4 + 9 = 13$
10 6 3

⑥ $3 + 9 = 12$
10 7 2

③ $3 + 8 = 11$
10 7 1

⑦ $4 + 8 = 12$
10 6 2

④ $3 + 9 = 12$
10 7 2

⑧ $4 + 9 = 13$
10 6 3