



くりあがりのある
たしざん 2

● くりあがりのけいさん
(9 と たす)

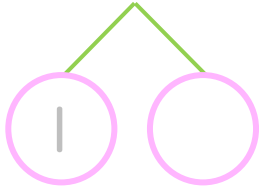


日にち： 月 日

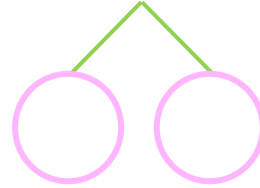
名まえ _____

・ けいさんを しましう。 (うすいじは なぞりましよう。)

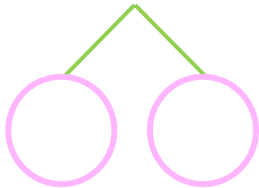
① $9 + 8 =$



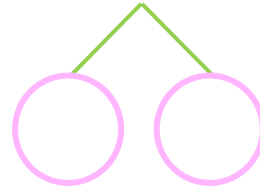
⑤ $9 + 2 =$



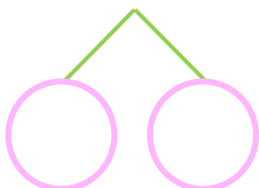
② $9 + 7 =$



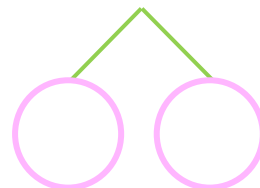
⑥ $9 + 6 =$



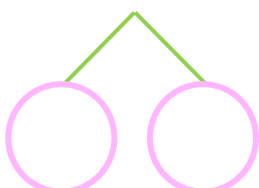
③ $9 + 9 =$




⑦ $9 + 5 =$



④ $9 + 3 =$



⑧ $9 + 4 =$





くりあがりのある
たしざん 2

● くりあがりのけいさん
(9 と たす)



日にち： 月 日

名まえ _____

・ けいさんを しまししょう。(うすいじは なぞりまししょう。)

① $9 + 8 = 17$
10 1 7

⑤ $9 + 2 = 11$
10 1 1

② $9 + 7 = 16$
10 1 6

⑥ $9 + 6 = 15$
10 1 5

③ $9 + 9 = 18$
10 1 8

⑦ $9 + 5 = 14$
10 1 4

④ $9 + 3 = 12$
10 1 2

⑧ $9 + 4 = 13$
10 1 3