



くりあがりのある
たしざん 4

● くりあがりのけいさん
(7とたす)

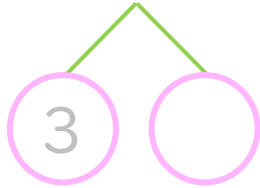


日にち： 月 日

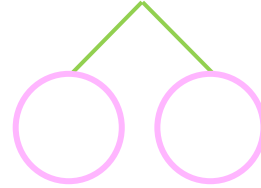
名まえ _____

・ けいさんをしましょう。(うすいじはなぞりましょう。)

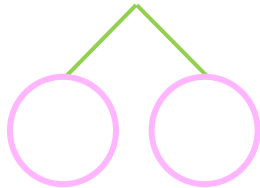
① $7 + 5 =$



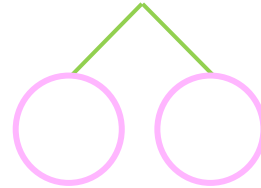
⑤ $7 + 8 =$



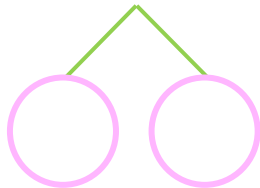
② $7 + 6 =$



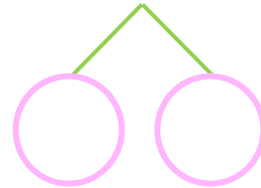
⑥ $7 + 7 =$



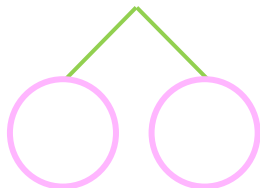
③ $7 + 9 =$



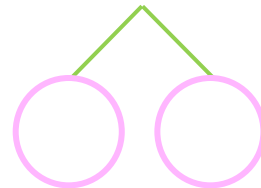
⑦ $7 + 5 =$



④ $7 + 4 =$



⑧ $7 + 9 =$





くりあがりのある
たしざん 4

● くりあがりのけいさん
(7とたす)



日にち： 月 日

名まえ _____

・ けいさんを しまししょう。(うすいじはなぞりましよう。)

① $7 + 5 = 12$
10 (3) (2)

⑤ $7 + 8 = 15$
10 (3) (5)

② $7 + 6 = 13$
10 (3) (3)

⑥ $7 + 7 = 14$
10 (3) (4)

③ $7 + 9 = 16$
10 (3) (6)

⑦ $7 + 5 = 12$
10 (3) (2)

④ $7 + 4 = 11$
10 (3) (1)

⑧ $7 + 9 = 16$
10 (3) (6)

