



くりさがりのある
ひきざん 2

● くりさがりのけいさん
(9をひく)



日にち： 月 日

名まえ _____

・ けいさんをしましょう。(うすいじはなぞりましょう。)

① $11 - 9 = \square$

⑤ $18 - 9 = \square$

② $15 - 9 = \square$

⑥ $12 - 9 = \square$

③ $14 - 9 = \square$

⑦ $13 - 9 = \square$

④ $17 - 9 = \square$

⑧ $16 - 9 = \square$



くりさがりのある
ひきざん 2

● くりさがりのけいさん
(9をひく)

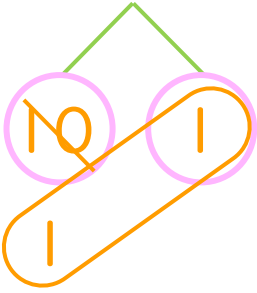


日にち： 月 日

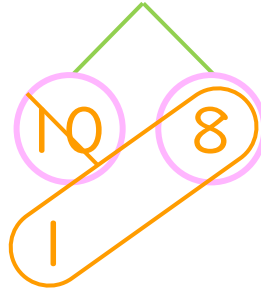
名まえ _____

・ けいさんをしましょう。(うすいじはなぞりましょう。)

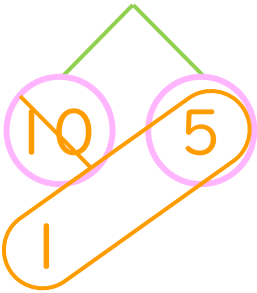
① $11 - 9 = 2$



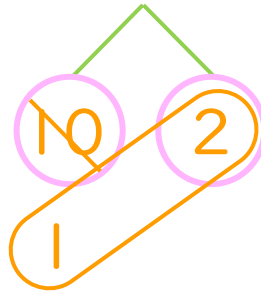
⑤ $18 - 9 = 9$



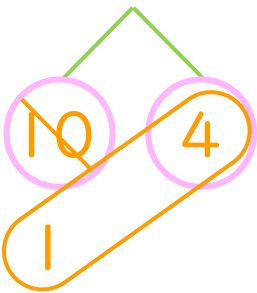
② $15 - 9 = 6$



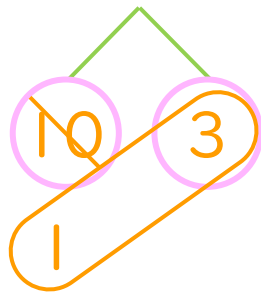
⑥ $12 - 9 = 3$



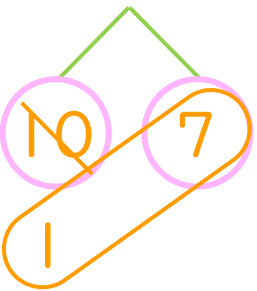
③ $14 - 9 = 5$



⑦ $13 - 9 = 4$



④ $17 - 9 = 8$



⑧ $16 - 9 = 7$

