



たしざんと  
ひきざん 6

くりはなんこ?  
(きゅうしょう)



日にち： 月 日

名まえ \_\_\_\_\_

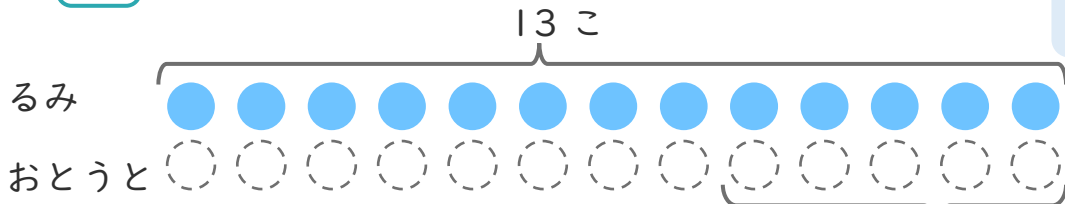
1

るみさんはくりを 13こ ひろいました。

おとうとは、るみさんより 5こ すくなかった そうです。

①  にあうかずをかきましょう。

○にいろを  
ぬりましょう。



こすくない

② おとうとは、なんこ ひろいましたか。

しき：

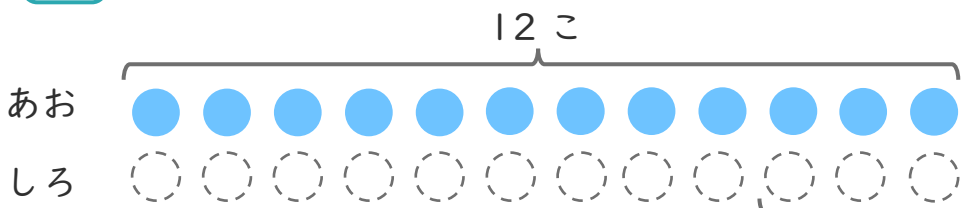
こたえ {

2 あおいたまが 12こ あります。

しろいたまは、あおいたまより 3こ すくない そうです。

①  にあうかずをかきましょう。

○にいろを  
ぬりましょう。



こすくない

② しろいたまは なんこ ありますか。

しき：

こたえ {





たしざんと  
ひきざん 6

くりはなんこ?  
(きゅうしょう)



日にち： 月 日

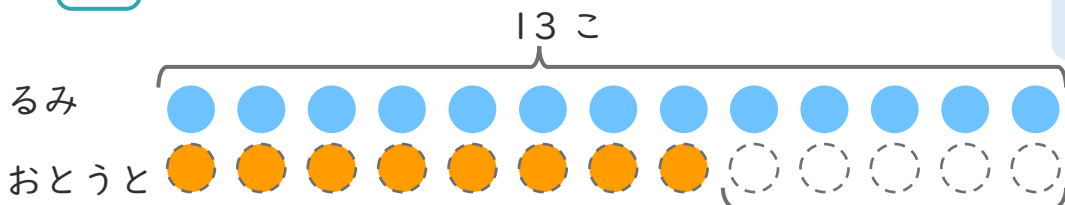
名まえ \_\_\_\_\_

1 るみさんはくりを13こひろいました。

おとうとは、るみさんより5こすくなくったそうです。

①  にあうかずをかきましょう。

○にいろをぬりましょう。



5 こすくない

② おとうとは、なんこひろいましたか。

しき： $13 - 5 = 8$

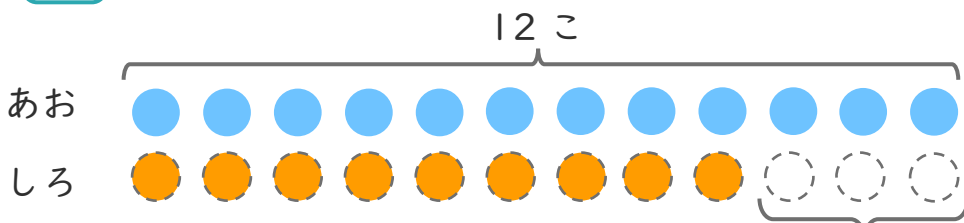
こたえ  $\left( \begin{array}{c} 8 \\ \text{こ} \end{array} \right)$

2 あおいたまが12こあります。

しろいたまは、あおいたまより3こすくないそうです。

①  にあうかずをかきましょう。

○にいろをぬりましょう。



3 こすくない

② しろいたまはなんこありますか。

しき： $12 - 3 = 9$

こたえ  $\left( \begin{array}{c} 9 \\ \text{こ} \end{array} \right)$

