



くりあがりのある  
たしざん 10

● けいさんのしかたを  
かんがえよう

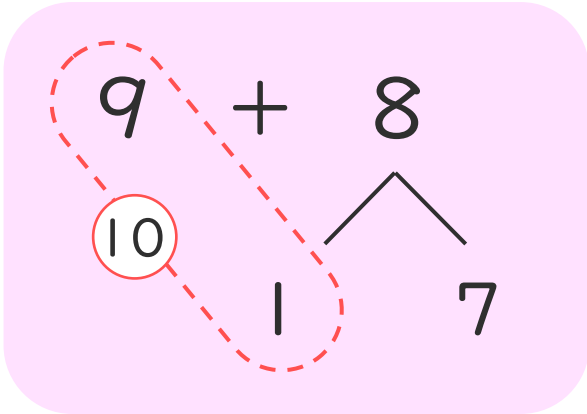


日にち： 月 日

名まえ \_\_\_\_\_

- ・  $9 + 8$  のけいさんのしかたをかんがえます。

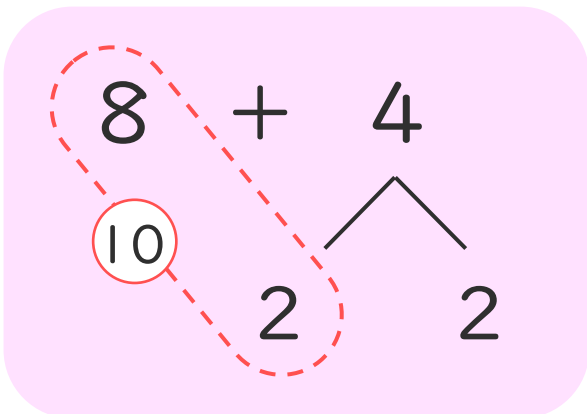
にあうかずをかきましょう。



- ① 9はあと  で10。
- ② 8を  と7にわける。
- ③ 9に  をたして10。
- ④ 10と  で17。

- ・  $8 + 4$  のけいさんのしかたをかんがえます。

にあうかずをかきましょう。



- ① 8はあと  で10。
- ② 4を  と2にわける。
- ③ 8に  をたして10。
- ④ 10と  で12。



くりあがりのある  
たしざん 10

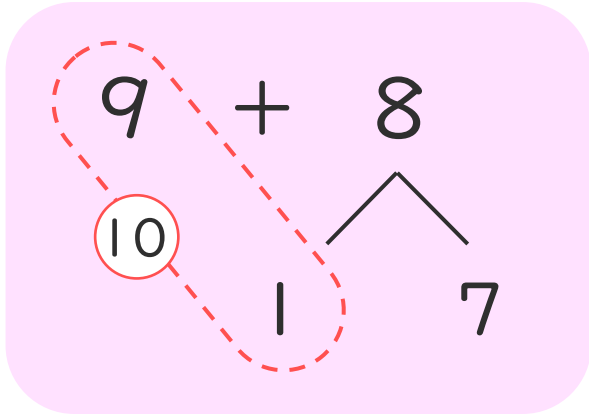
● けいさんのしかたを  
かんがえよう



日にち： 月 日

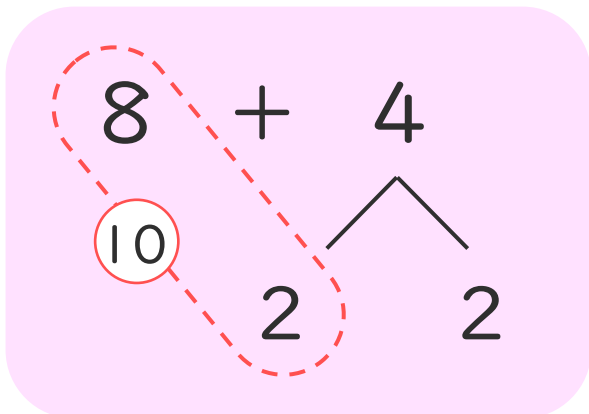
名まえ \_\_\_\_\_

- ・  $9 + 8$  のけいさんのしかたをかんがえます。  
□にあうかずをかきましょう。



- ① 9はあと □1□ で10。
- ② 8を □1□ と7にわける。
- ③ 9に □1□ をたして10。
- ④ 10と □7□ で17。

- ・  $8 + 4$  のけいさんのしかたをかんがえます。  
□にあうかずをかきましょう。



- ① 8はあと □2□ で10。
- ② 4を □2□ と2にわける。
- ③ 8に □2□ をたして10。
- ④ 10と □2□ で12。

