



たしざんと
ひきざん 4

● すわれないひとはなんにん?
(こすうとにんずう)



日にち： 月 日

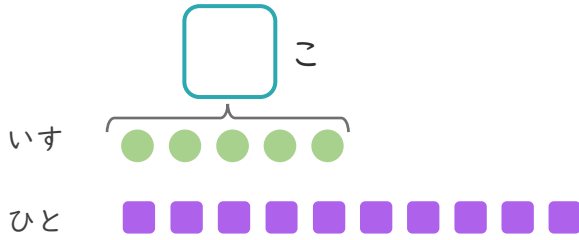
名まえ _____

1

いすが 5 こ あります。

10 にんでいすととりゲームを しました。

① にあうかずをかきましょう。



● と ■ を せんで
むすびましょう。

② いすにすわれないひとはなんにんですか。

しき：

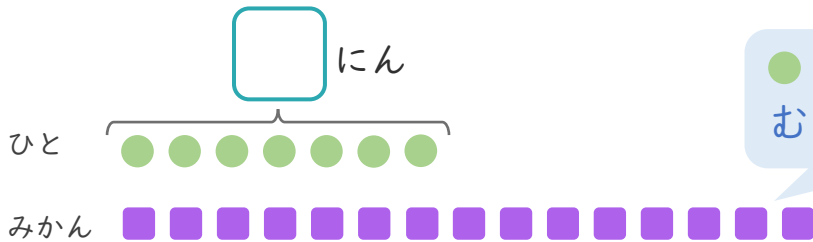
こたえ {

2

みかんが 15 こ あります。

7 にんに 1 こずつ わけました。

① にあうかずをかきましょう。



● と ■ を せんで
むすびましょう。

② みかんは、なんこのこりますか。

しき：

こたえ {





たしざんと
ひきざん 4

● すわれないひとはなんにん?
(こすうとにんずう)



日にち： 月 日

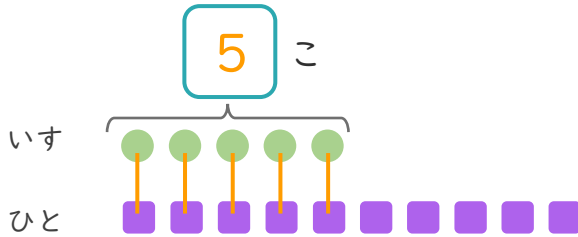
名まえ _____

1

いすが 5 こ あります。

10 にんでいすととりゲームを しました。

① にあうかずをかきましょう。



● と ■ を せんで
むすびましょう。

② いすにすわれないひとはなんにんですか。

しき： $10 - 5 = 5$

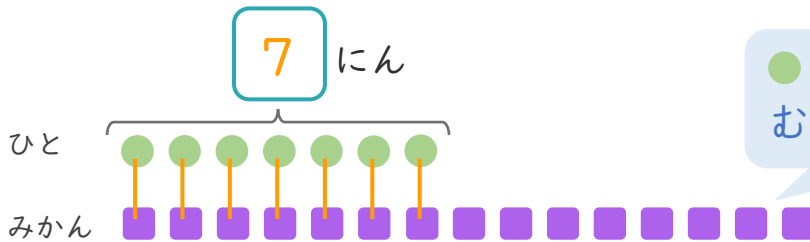
こたえ { 5 にん }

2

みかんが 15 こ あります。

7 にんに 1 こずつ わけました。

① にあうかずをかきましょう。



● と ■ を せんで
むすびましょう。

② みかんは、なんこのこりますか。

しき： $15 - 7 = 8$

こたえ { 8 こ }

