



たしざんと
ひきざん 3

● ぜんぶでなんだい?
(にんずうとだいすう)



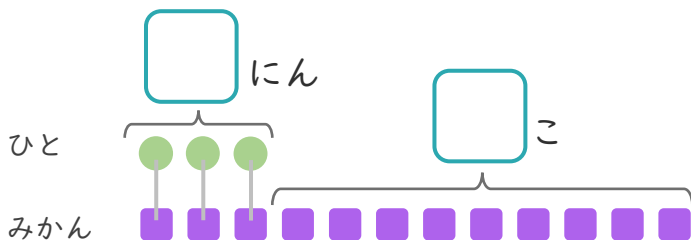
日にち： 月 日

名まえ _____

1 3にんにみかんを1こずつわけました。

みかんはあと9こあります。(うすいじはなぞりましょう。)

① にあうかずをかきましょう。



● と ■ をせんで
むすびましょう。

② みかんは、ぜんぶでなんこありますか。

しき：

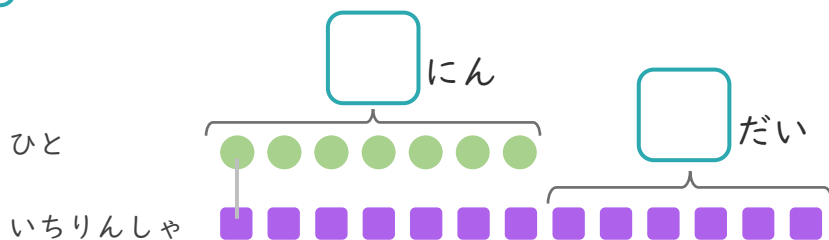
こたえ

こ

2 7にんがいちりんしゃであそんでいます。

いちりんしゃはあと6だいあります。

① にあうかずをかきましょう。



● と ■ をせんで
むすびましょう。

② いちりんしゃは、ぜんぶでなんだいありますか。

しき：

こたえ

だい





たしざんと
ひきざん 3

● ぜんぶでなんだい?
(にんずうとだいすう)



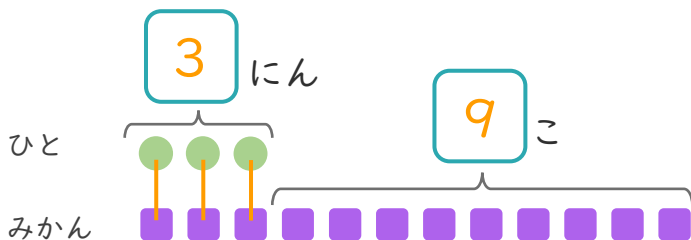
日にち： 月 日

名まえ _____

1 3にんにみかんを1こずつわけました。

みかんはあと9こあります。(うすいじはなぞりましょう。)

① □にあうかずをかきましょう。



● と ■ を せんで
むすびましょう。

② みかんは、ぜんぶでなんこありますか。

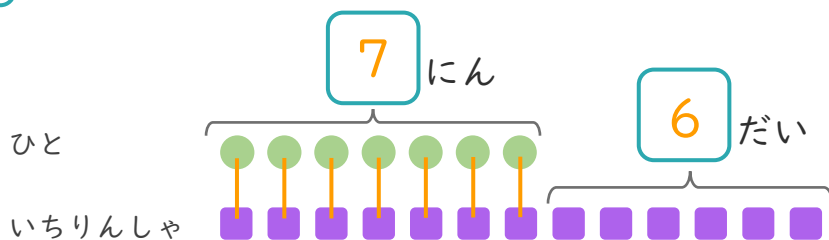
しき： $3 + 9 = 12$

こたえ { 12 こ }

2 7にんがいちりんしゃであそんでいます。

いちりんしゃはあと6だいあります。

① □にあうかずをかきましょう。



● と ■ を せんで
むすびましょう。

② いちりんしゃは、ぜんぶでなんだいありますか。

しき： $7 + 6 = 13$

こたえ { 13 だい }

