



たしざんと
ひきざん 6

● どんぐりはなんこ？
(きゅうしょう)



日にち： 月 日

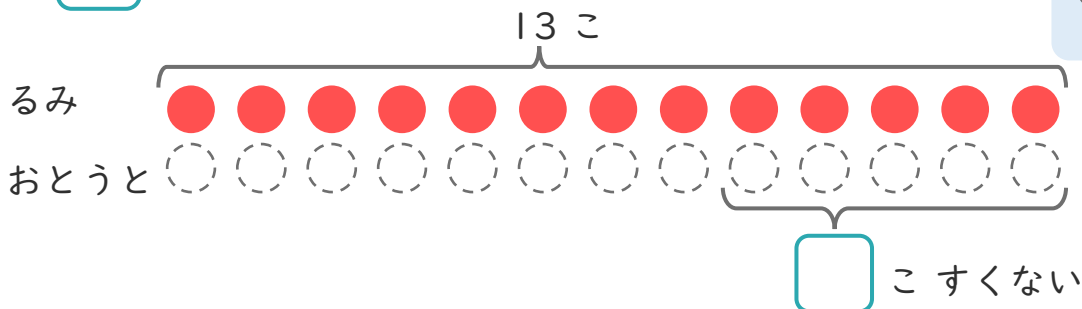
名まえ _____

1

るみさんはくりを 13こ ひろいました。
おとうとは、るみさんより 5こ すくなくった そうです。

① にあうかずをかきましょう。

○にいろを
ぬりましょう。



② おとうとは、なんこ ひろいましたか。

しき：

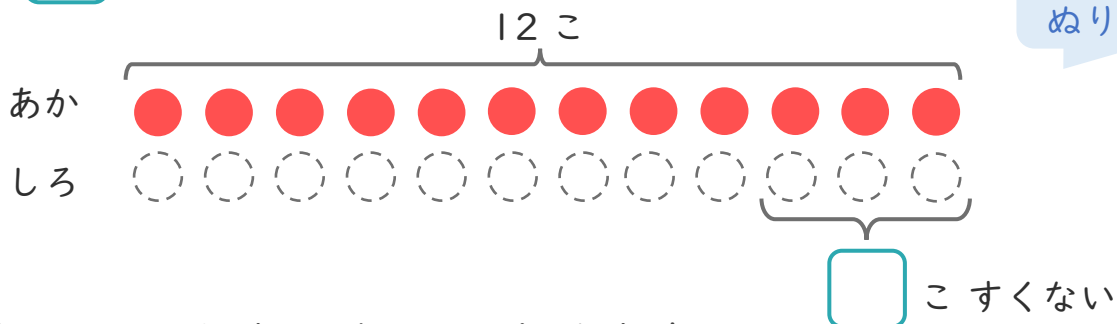
こたえ {

2

あかいたまが 12こ あります。
しろいたまは、あかいたまより 3こ すくない そうです。

① にあうかずをかきましょう。

○にいろを
ぬりましょう。



② しろいたまは なんこ ありますか。

しき：

こたえ {





たしざんと
ひきざん 6

● どんぐりはなんこ？
(きゅうしょう)



日にち： 月 日

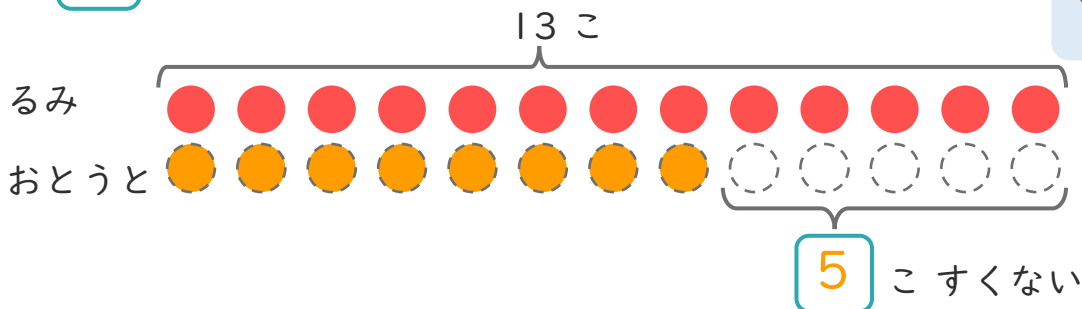
名まえ _____

1

るみさんはくりを 13こ ひろいました。
おとうとは、るみさんより 5こ すくなくった そうです。

① にあうかずをかきましょう。

○にいろを
ぬりましょう。



② おとうとは、なんこ ひろいましたか。

しき： $13 - 5 = 8$

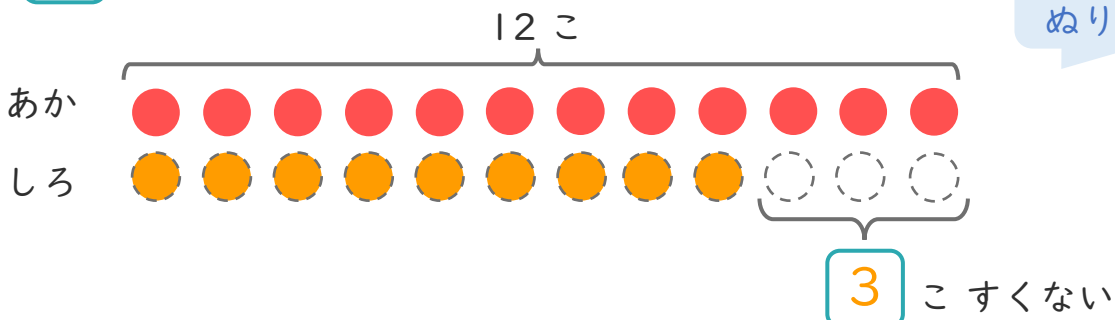
こたえ $\left(\begin{array}{c} 8 \\ \text{こ} \end{array} \right)$

2

あかいたまが 12こ あります。
しろいたまは、あかいたまより 3こ すくない そうです。

① にあうかずをかきましょう。

○にいろを
ぬりましょう。



② しろいたまはなんこ ありますか。

しき： $12 - 3 = 9$

こたえ $\left(\begin{array}{c} 9 \\ \text{こ} \end{array} \right)$

