



のこりはいくつ 4

● のこりはいくつ?
(きゅうほ)



日にち： 月 日

名まえ _____

・ しきにかいて こたえましょう。(うすいじはなぞりましょう。)

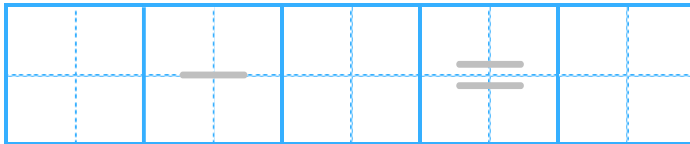
① あおときいろのかさがぜんぶで10ぽんあります。

あおのかさは5ぽんあります。

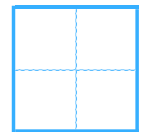
きいろのかさはなんぽんありますか。



しき



こたえ



ほん

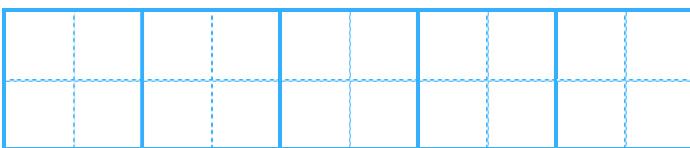
② くろとしろのうさぎがぜんぶで8ぴきいます。

くろいうさぎは1ぴきいます。

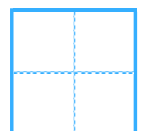
しろいうさぎはなんびきいますか。



しき



こたえ



ひき





のこりはいくつ 4

● のこりはいくつ?
(きゅうほ)



日にち： 月 日

名まえ _____

・ しきにかいて こたえましょう。(うすいじはなぞりましょう。)

① あおときいろのかさがぜんぶで10ぽんあります。

あおのかさは5ぽんあります。

きいろのかさはなんぽんありますか。



しき

$$10 - 5 = 5$$

こたえ

5

ぽん

② くろとしろのうさぎがぜんぶで8ぴきいます。

くろいうさぎは1ぴきいます。

しろいうさぎはなんびきいますか。



しき

$$8 - 1 = 7$$

こたえ

7

ひき

