



のこりはいくつ 2

しきをつくろう

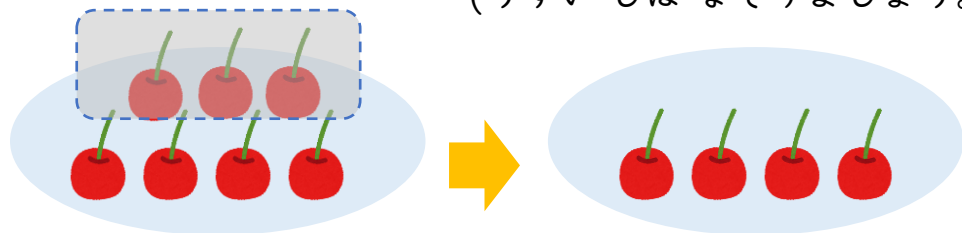


・ さくらんぼが 7 こ あります。

3 こ たべました。

のこりは なんこ でしょう。

(うすいじは なぞりましよう。)



しき

こたえ

こ

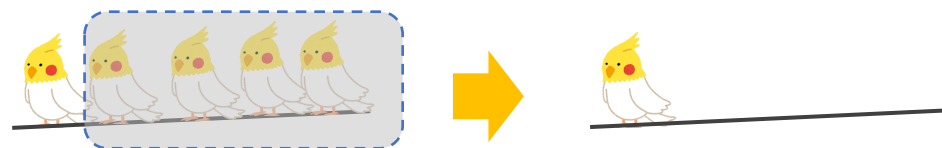
日にち： 月 日

名まえ

・ とりが 5 わ とまっていたました。

4 わ とんでいきました。

のこりは なんわ でしょう。



しき

こたえ

わ





のこりはいくつ 2

しきをつくろう



・ さくらんぼが 7 こ あります。

3 こ たべました。

のこりは なんこ でしょう。

(うすいじは なぞり ましょう。)



しき

$$7 - 3 = 4$$

こたえ

4 こ

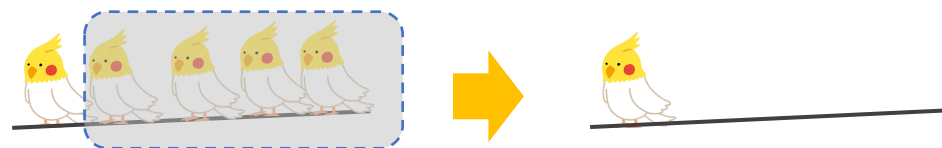
日にち： 月 日

名まえ

・ とりが 5 わ とまっていたいました。

4 わ とんでいきました。

のこりは なんわ でしょう。



しき

$$5 - 4 = 1$$

こたえ

1 わ

