

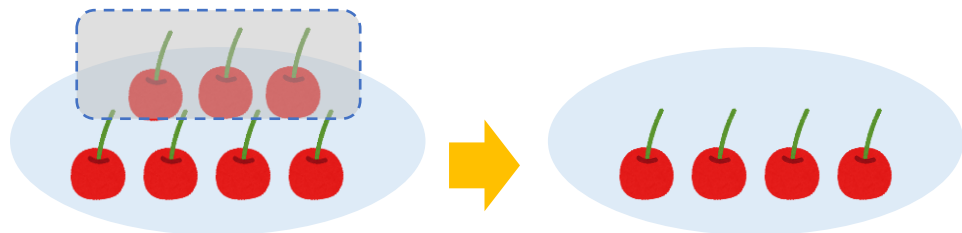


# のこりはいくつ 2

しきをつくろう



- さくらんぼが 7 こ あります。  
3 こ たべました。  
のこりは なんこ でしょう。



しき

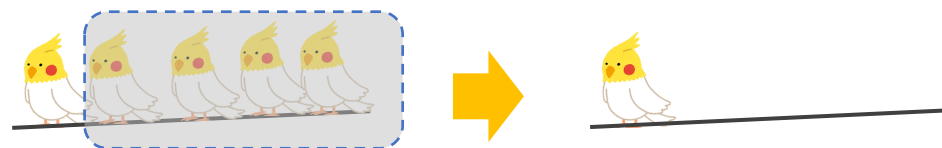

こたえ


こ

日にち： 月 日

名まえ

- とりが 5 わ とまっていたました。  
4 わ とんでいきました。  
のこりは なんわ でしょう。



しき


こたえ


わ

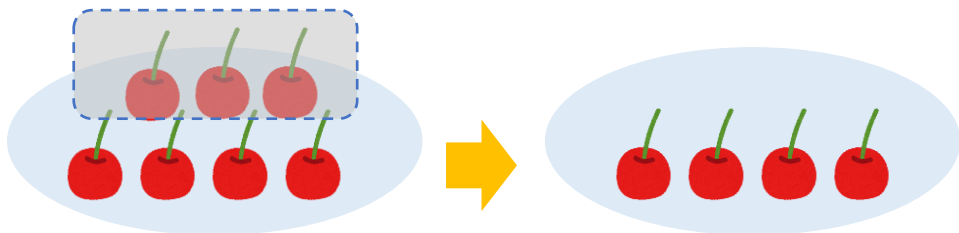


# のこりはいくつ？

しきをつくろう



- さくらんぼが 7 こ あります。  
3 こ たべました。  
のこりは なんこ でしょう。



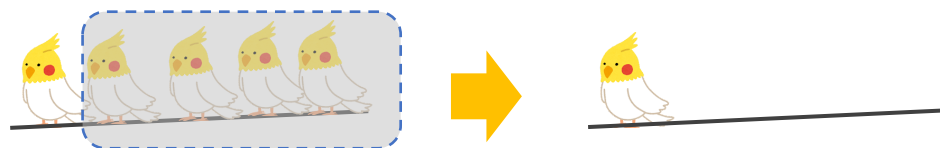
しき  $7 - 3 = 4$

こたえ  $4$  こ

日にち： 月 日

名まえ \_\_\_\_\_

- とりが 5 わ とまっていたました。  
4 わ とんでいきました。  
のこりは なんわ でしょう。



しき  $5 - 4 = 1$

こたえ  $1$  わ