



たしざんと
ひきざん 5

● みかんのあめはなんこ?
(きゅうだい)



日にち： 月 日

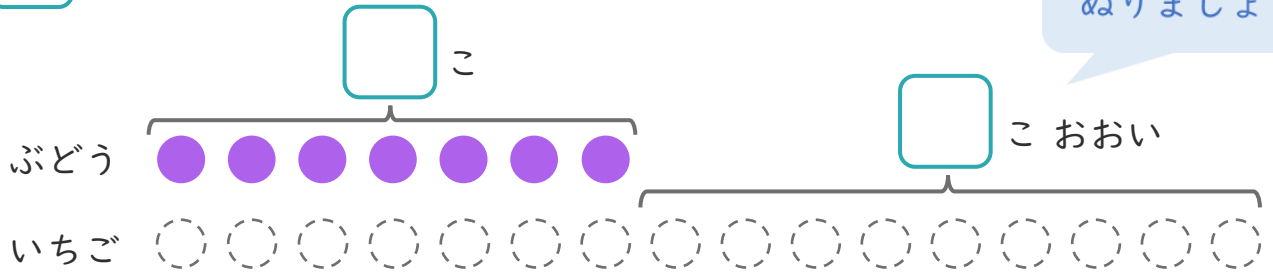
名まえ _____

1 ぶどうのあめが7こあります。

いちごのあめは、ぶどうのあめより9こおいそうです。

① にあうかずをかきましょう。

○にいろをぬりましょう。



② いちごのあめはなんこありますか。

しき：

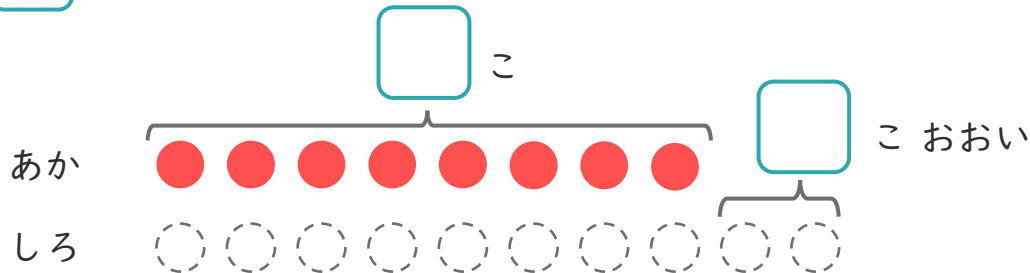
こたえ {

2 たまいれをしました。あかぐみは、8こはいりました。

しろぐみは、あかぐみより2こおいそうです。

① にあうかずをかきましょう。

○にいろをぬりましょう。



② しろぐみは、なんこはいりましたか。

しき：

こたえ {





たしざんと
ひきざん 5

● みかんのあめはなんこ？
(きゅうだい)



日にち： 月 日

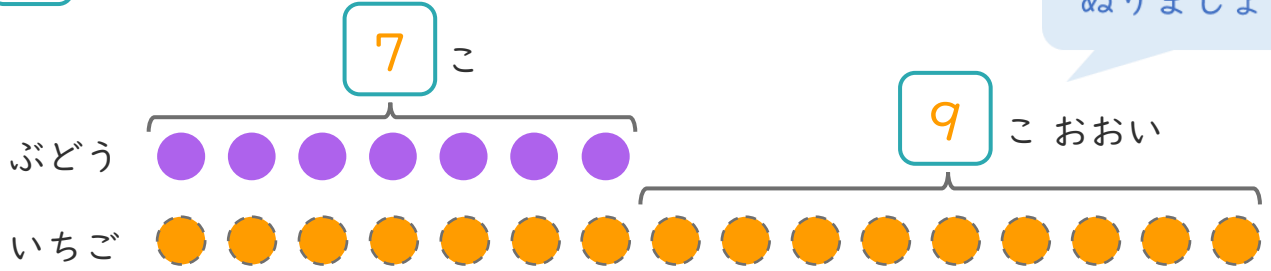
名まえ _____

1 ぶどうのあめが7こあります。

いちごのあめは、ぶどうのあめより9こおいそうです。

① □にあうかずをかきましょう。

○にいろをぬりましょう。



② いちごのあめはなんこありますか。

しき： $7 + 9 = 16$

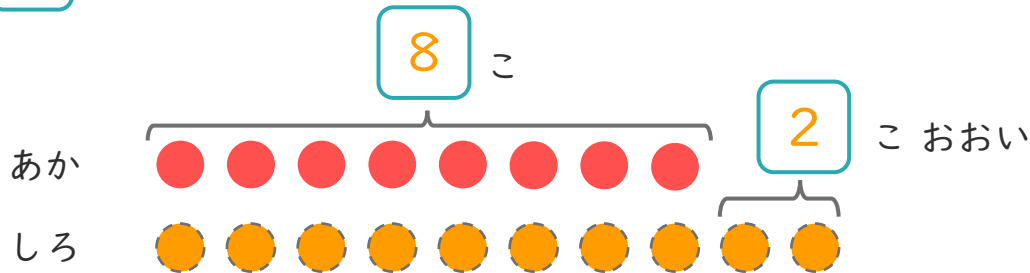
こたえ { 16 こ }

2 たまいれをしました。あかぐみは、8こはいりました。

しろぐみは、あかぐみより2こおいそうです。

① □にあうかずをかきましょう。

○にいろをぬりましょう。



② しろぐみは、なんこはいりましたか。

しき： $8 + 2 = 10$

こたえ { 10 こ }

