




どちらがおおい③

● コップで なんばい
はいりますか？




日にち： 月 日

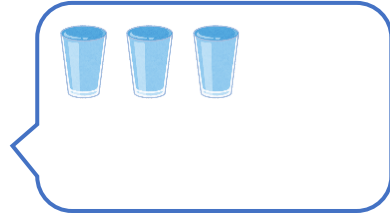
名まえ _____

・ みずが  のかずだけはいります。


① あ




② い




③ う




①  で なんばい はいりますか。

① あ... はい ② い... はい ③ う... はい

② ①と②では、どちらがどれだけおおくはいりますか。

のほうが、 で はいぶん おおく はいる。

③ ②と③では、どちらがどれだけおおくはいりますか。

のほうが、 で はいぶん おおく はいる。






どちらがおおい③

● コップで なんばい
はいりますか？




日にち： 月 日

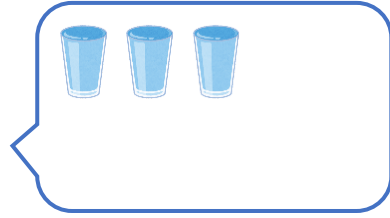
名まえ _____

・ みずが  のかずだけはいります。


① あ




② い



③ う



①  で なんばいはいりますか。

① あ... **〔6〕** はい ② い... **〔3〕** はい ③ う... **〔9〕** はい

② ①あ と ②い では、どちらがどれだけおおくはいりますか。

〔あ〕 のほうが、 で **〔3〕** はいぶん おおくはいる。

③ ②い と ③う では、どちらがどれだけおおくはいりますか。

〔う〕 のほうが、 で **〔6〕** はいぶん おおくはいる。

