



おおきいかず 4

○ 一のくらいをみて、
おおきいかずをみつけよう



日にち： 月 日

名まえ _____

・ いちばん おおきい かずに ○ を つけましょう。

(うすいじは なぞりましょう。)

① 5 5 5 0 5 1

()

()

()

② 7 3 7 9 7 6

()

()

()

③ 9 4 9 1 9 5 9 0

()

()

(○)

()

④ 6 6 6 2 6 5 6 7

()

()

()

()





おおきいかず 4

①のくらいをみて、
おおきいかずをみつけよう



日にち： 月 日

名まえ _____


・ いちばん おおきい かずに ○ を つけましょう。

(うすいじは なぞりましょう。)



① 5 5 5 0 5 1



② 7 3 7 9 7 6



③ 9 4 9 1 9 5 9 0



④ 6 6 6 2 6 5 6 7

