



あわせていくつ8

● 0のたしざん



日にち： 月 日

名まえ _____

・ たしざんをしましょう。(うすいじはなぞりましょう。)

① $0 + 6 =$

② $2 + 0 =$

③ $0 + 3 =$

④ $0 + 0 =$

⑤ $0 + 4 =$

⑥ $1 + 0 =$



あわせていくつ8

● 0のたしざん

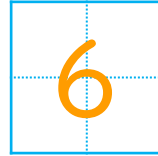


日にち： 月 日


名まえ _____

・ たしざんをしましょう。(うすいじはなぞりましょう。)

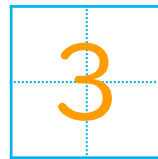
$① \quad 0 + 6 =$



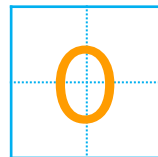
$② \quad 2 + 0 =$



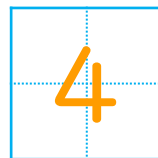
$③ \quad 0 + 3 =$



$④ \quad 0 + 0 =$



$⑤ \quad 0 + 4 =$



$⑥ \quad 1 + 0 =$

