



のこりはいくつ？

◎ 10からひくひきざん

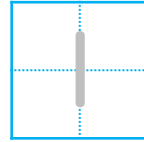


日にち： 月 日

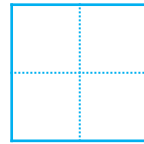
名まえ _____

- ・ ひきざんをしましょう。(うすいじはなぞりましょう。)


① $10 - 9 =$



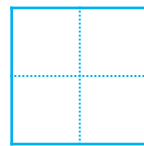
② $10 - 4 =$



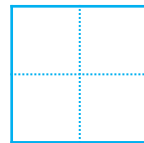
③ $10 - 2 =$



④ $10 - 7 =$



⑤ $10 - 5 =$





のこりはいくつ？

◎ 10 から ひく ひきざん

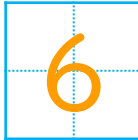


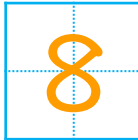
日にち： 月 日

名まえ _____

- ・ ひきざんを しまししょう。(うすいじはなぞりまししょう。)

① $10 - 9 =$ 

② $10 - 4 =$ 

③ $10 - 2 =$ 

④ $10 - 7 =$ 

⑤ $10 - 5 =$ 