



3つの
かずのけいさん 4

3つのかずのたしひきの
ぶんしょうもんだい




日にち： 月 日

名まえ _____

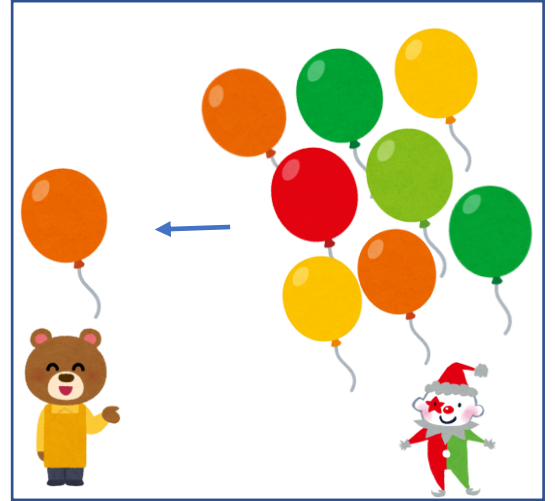
1 ふうせんは、なんこになりましたか。



3こあります。



2こあげました。



8こもらいました。

しき：

こたえ：

2 いちごが 6こあります。ともだちから 3こもらいました。そのあと 5こたべました。いちごはなんこになりましたか。

しき：

こたえ：





3つの かずのけいさん 4

3つのかずのたしひきの
ぶんしょうもんだい

6

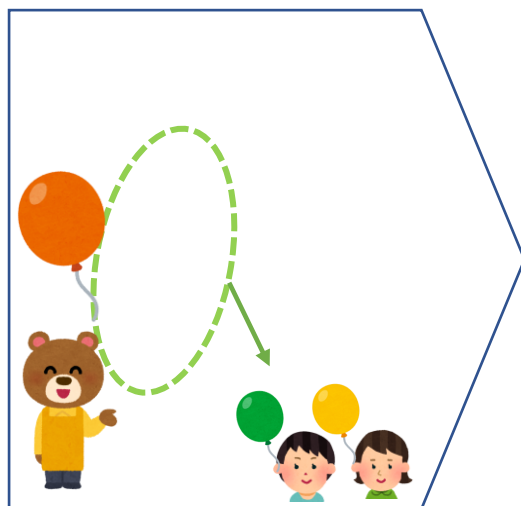
日にち： 月 日

名まえ _____

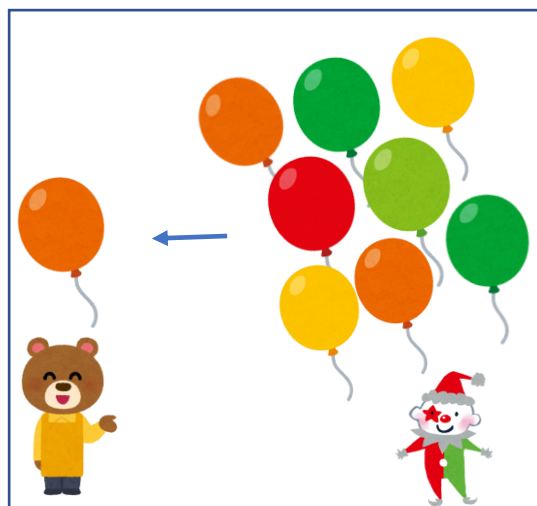
1 ふうせんは、なんこになりましたか。



3こあります。



2こあげました。



8こもらいました。

しき：

$$3 - 2 + 8 = 9$$

こたえ：

9こ

2 いちごが 6こあります。ともだちから 3こもらいました。そのあと 5こたべました。
いちごはなんこになりましたか。

しき：

$$6 + 3 - 5 = 4$$

こたえ：

4こ

