



あわせていくつ4

◎ あとから ふえる

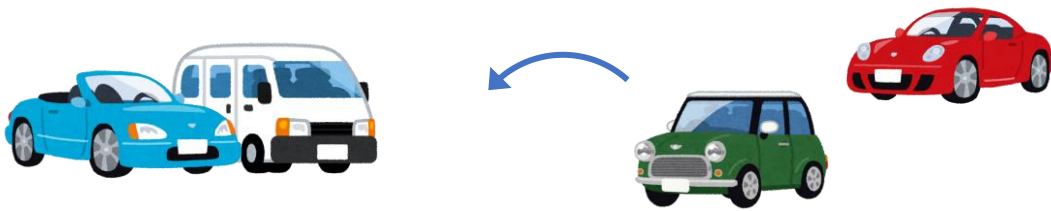


日にち： 月 日

名まえ _____

・ しきにかいて こたえましょう。

① くるまが 2だい とまっています。あとから 2だい きました。くるまは ぜんぶで なんだい になりましたか。




しき

こたえ

だい

② かびんにはなが 4ほん いています。あとから 2ほん いました。はなは ぜんぶで なんほん になりましたか。



しき

こたえ

ほん





あわせていくつ4

● あとからふえる

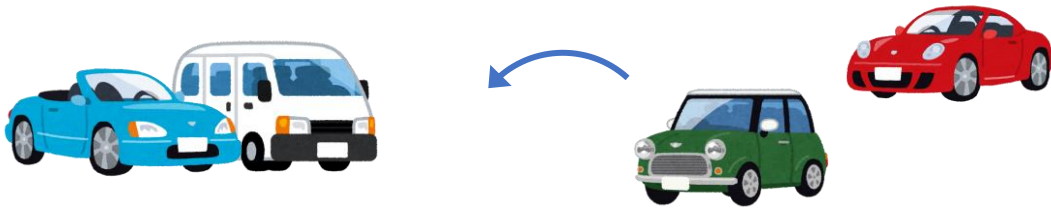


日にち： 月 日

名まえ _____

・ しきにかいてこたえましょう。

① くるまが2だいとまっています。あとから2だいききました。くるまはぜんぶでなんだいになりましたか。



しき


$$2 + 2 = 4$$

こたえ

$$4$$

だい

② かびんにはなが4ほんはっています。あとから2ほんいれました。はなはぜんぶでなんぼんになりましたか。



しき

$$4 + 2 = 6$$

こたえ

$$6$$

ぽん

