



あわせていくつ4

● あとからふえる

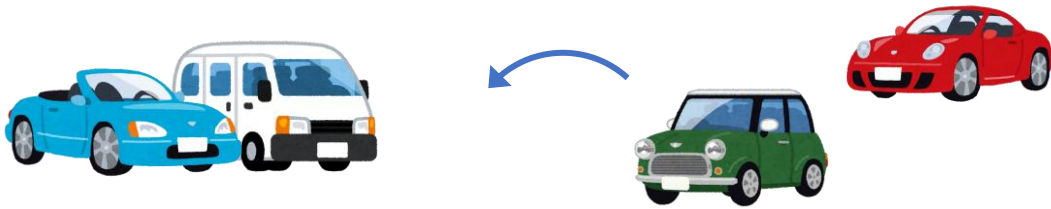


日にち： 月 日

名まえ _____

・ しきにかいてこたえましょう。

① くるまが2だいとまっています。あとから2だいききました。くるまはぜんぶでなんだいになりましたか。




しき

こたえ

だい

② かびんにはなが4ほんはっています。あとから2ほんいれました。はなはぜんぶでなんぼんになりましたか。



しき

こたえ

ぽん





あわせていくつ4

● あとからふえる

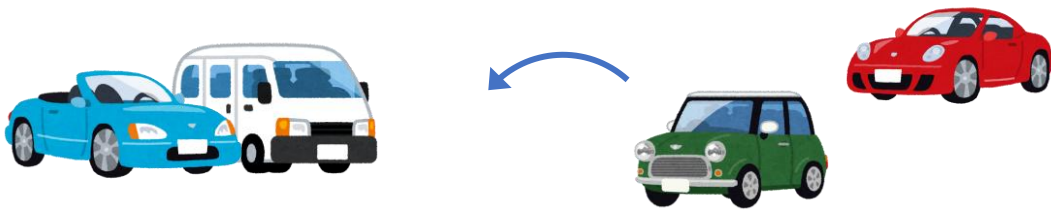


日にち： 月 日

名まえ _____

・ しきにかいて こたえましょう。

① くるまが 2 だいとまっています。あとから 2 だいききました。くるまはぜんぶでなんだいになりましたか。



しき


$$2 + 2 = 4$$

こたえ

$$4$$

だい

② かびんにはなが 4 ほんはっています。あとから 2 ほんいれました。はなはぜんぶでなんぼんになりましたか。



しき

$$4 + 2 = 6$$

こたえ

$$6$$

ぽん

