




なかまづくりとかず3

● いくつでしょう？
(5までのかず)

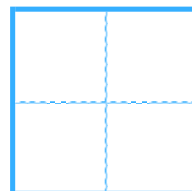


日にち： 月 日

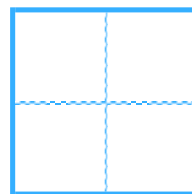

名まえ _____

・ いくつでしょう。  にすうじをかきましょう。

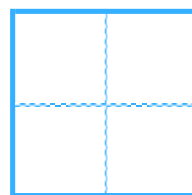
①



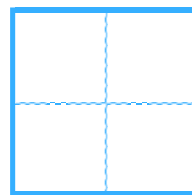
②



③



④






なかまづくりとかず3

● いくつでしょう？
(5までのかず)

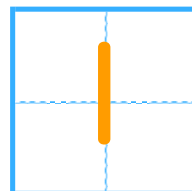


日にち： 月 日

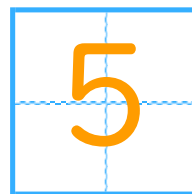

名まえ _____

・ いくつでしょう。  にすうじをかきましょう。

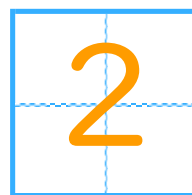
①



②



③



④

