



10より
おおきいかず 9

● おおきいかずは
どちらでしょう

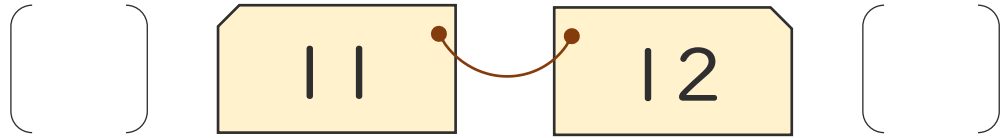


日にち： 月 日

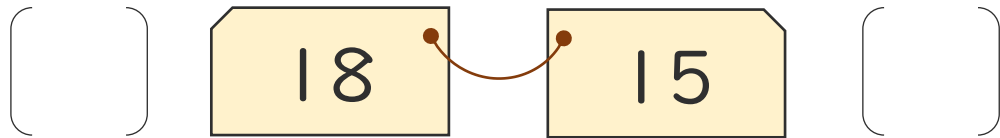
名まえ _____

・ おおきいほうに ○ をつけましょう。

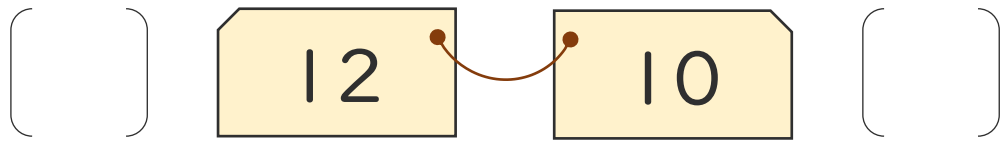
①



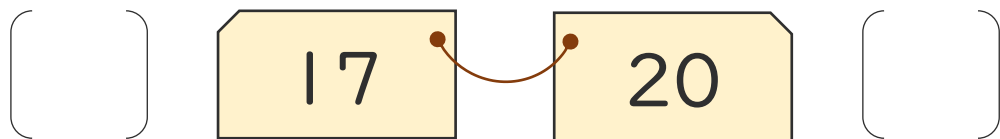
②



③



④





10より
おおきいかず 9

● おおきいかずは
どちらでしょう



日にち： 月 日

名まえ _____

・ おおきいほうに ○ をつけましょう。

①

() 11 12 (○)

②

(○) 18 15 ()

③

(○) 12 10 ()

④

() 17 20 (○)

