



くりあがりのある  
たしざん 6

● くりあがりのけいさん  
(4や3とたす)

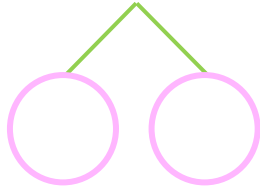


日にち：        月        日

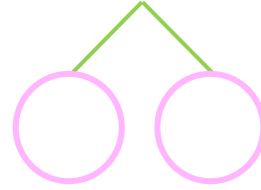
名まえ \_\_\_\_\_

・ けいさんをしましょう。

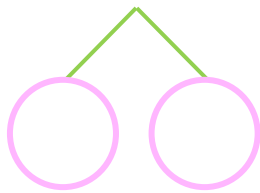
①  $4 + 9 = \square$



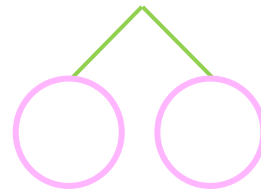
⑤  $3 + 8 = \square$



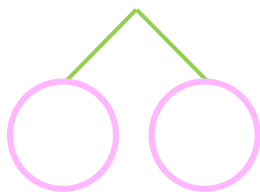
②  $3 + 9 = \square$



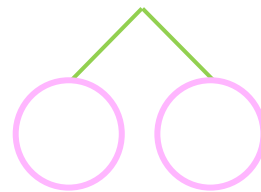
⑥  $4 + 9 = \square$



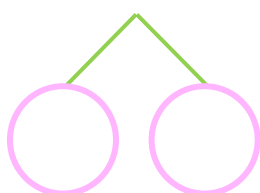
③  $4 + 8 = \square$



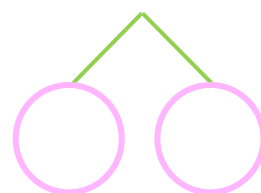
⑦  $3 + 9 = \square$



④  $4 + 7 = \square$



⑧  $4 + 8 = \square$





くりあがりのある  
たしざん 6

● くりあがりのけいさん  
(4や3とたす)



日にち：      月      日

名まえ \_\_\_\_\_

・ けいさんをしましょう。

①  $4 + 9 = 13$   
10 6 3

⑤  $3 + 8 = 11$   
10 7 1

②  $3 + 9 = 12$   
10 7 2

⑥  $4 + 9 = 13$   
10 6 3

③  $4 + 8 = 12$   
10 6 2

⑦  $3 + 9 = 12$   
10 7 2

④  $4 + 7 = 11$   
10 6 1

⑧  $4 + 8 = 12$   
10 6 2