



くりあがりのある
たしざん 5

● くりあがりのけいさん
(6や5とたす)

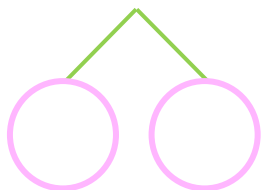


日にち： 月 日

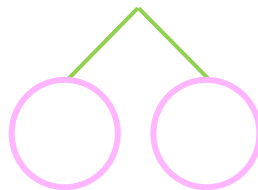
名まえ _____

・ けいさんをしましょう。

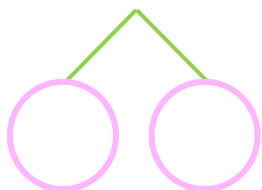
① $6 + 7 =$



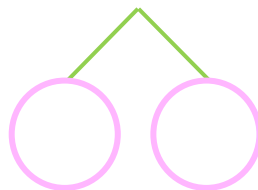
⑤ $5 + 9 =$



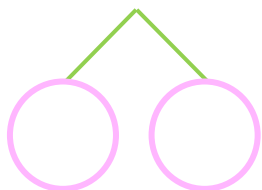
② $6 + 9 =$



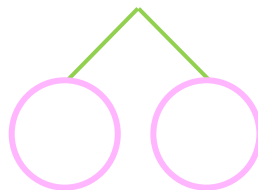
⑥ $5 + 8 =$



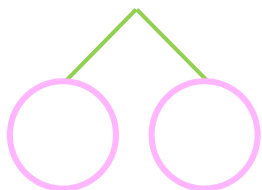
③ $6 + 6 =$



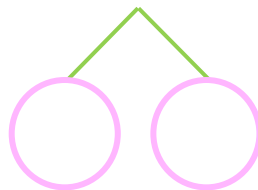
⑦ $5 + 6 =$



④ $6 + 8 =$



⑧ $5 + 7 =$





くりあがりのある
たしざん 5

● くりあがりのけいさん
(6や5とたす)



日にち： 月 日

名まえ _____

・ けいさんをしましょう。

① $6 + 7 = 13$
10 4 3

⑤ $5 + 9 = 14$
10 5 4

② $6 + 9 = 15$
10 4 5

⑥ $5 + 8 = 13$
10 5 3

③ $6 + 6 = 12$
10 4 2

⑦ $5 + 6 = 11$
10 5 1

④ $6 + 8 = 14$
10 4 4

⑧ $5 + 7 = 12$
10 5 2

