



くりあがりのある
たしざん 10

● けいさんのしかたを
かんがえよう

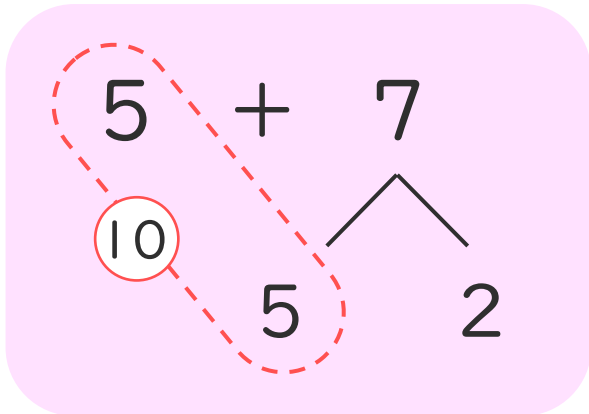


日にち： 月 日

名まえ _____

- ・ $5 + 7$ のけいさんのしかたをかんがえます。

にあうかずをかきましょう。



① 5はあと で10。

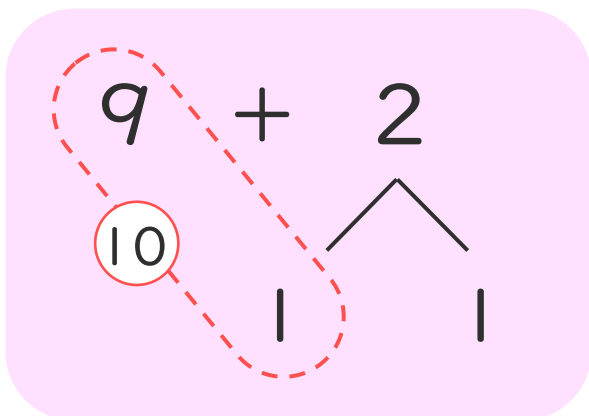
② 7を と2にわける。

③ 5に をたして10。

④ 10と で12。

- ・ $9 + 2$ のけいさんのしかたをかんがえます。

にあうかずをかきましょう。



① 9はあと で10。

② 2を と1にわける。

③ 9に をたして10。

④ 10と で11。





くりあがりのある
たしざん 10

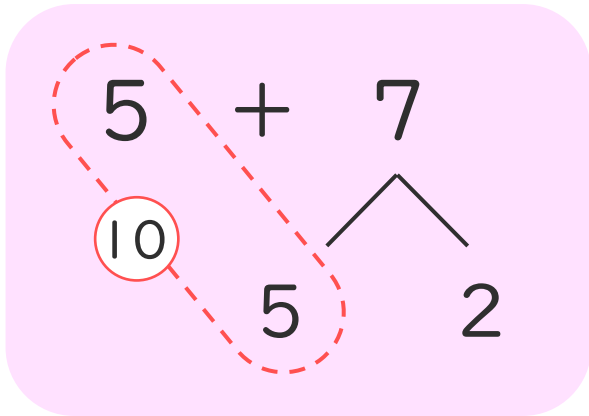
● けいさんのしかたを
かんがえよう



日にち： 月 日

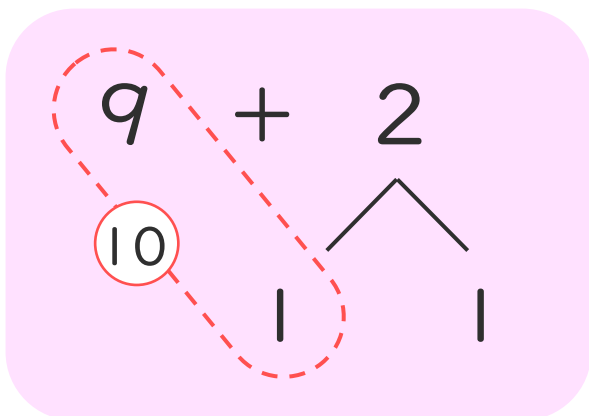
名まえ _____

- ・ $5 + 7$ のけいさんのしかたをかんがえます。
□にあうかずをかきましょう。



- ① 5はあと で10。
- ② 7を と2にわける。
- ③ 5に をたして10。
- ④ 10と で12。

- ・ $9 + 2$ のけいさんのしかたをかんがえます。
□にあうかずをかきましょう。



- ① 9はあと で10。
- ② 2を と1にわける。
- ③ 9に をたして10。
- ④ 10と で11。

