



たしざんと  
ひきざん 4



● すわれないひとはなんにん?  
(こすうとにんずう)

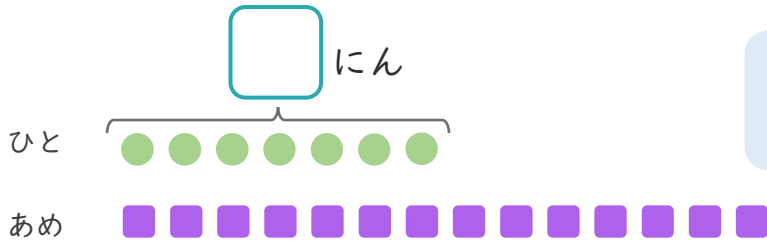
日にち：            月            日

名まえ \_\_\_\_\_

1

あめが 14こ あります。  
7にんに 1こずつ わけました。

①  にあう かずをかきましょう。



● と ■ を せんで  
むすびましょう。

② あめは、なんこのこりますか。

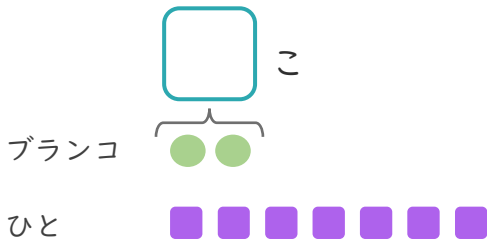
しき：

こたえ { }

2

ブランコが 2こ あります。  
7にんが きました。

①  にあう かずをかきましょう。



● と ■ を せんで  
むすびましょう。

② ブランコにのれないひとはなんにんですか。

しき：

こたえ { }





たしざんと  
ひきざん 4

● すわれないひとはなんにん?  
(こすうとにんずう)

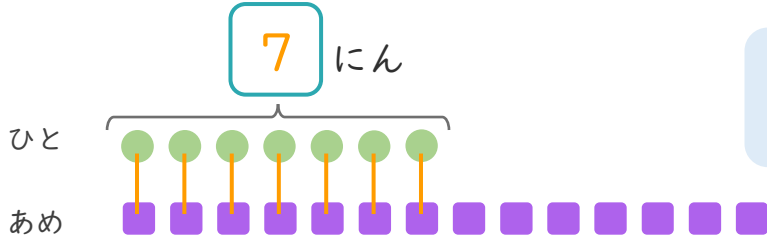


日にち： 月 日

名まえ \_\_\_\_\_

1 あめが 14こ あります。  
7にんに 1こずつ わけました。

①  にあうかずをかきましょう。



● と ■ を せんで  
むすびましょう。

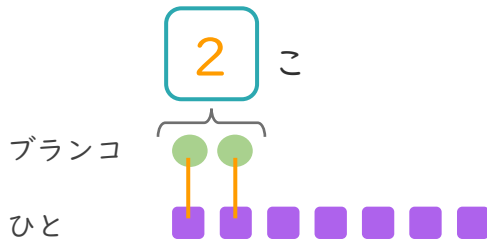
② あめは、なんこのこりますか。

しき： $14 - 7 = 7$

こたえ  $\left( 7 \quad \text{こ} \right)$

2 ブランコが 2こ あります。  
7にんが きました。

①  にあうかずをかきましょう。



● と ■ を せんで  
むすびましょう。

② ブランコにのれないひとはなんにんですか。

しき： $7 - 2 = 5$

こたえ  $\left( 5 \quad \text{にん} \right)$

