



のこりはいくつ？


それぞれのかずとちがい



日にち： 月 日

名まえ \_\_\_\_\_

1 🍎 と 🍊 の かずの ちがいは なんこですか。



しき


🍎 のかず

こたえ


こ

2 🎩 と 🧢 の かずの ちがいは なんこですか。



しき


🧢 のかず

こたえ


こ







のこりはいくつ？


◎ それぞれのかずとちがい



日にち： 月 日

名まえ \_\_\_\_\_

1  と  のかずのちがいはなんですか。

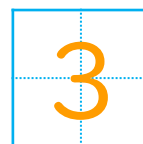


しき



$$9 - 6 = 3$$

 のかず

こたえ



こ

2  と  のかずのちがいはなんですか。




しき

$$10 - 8 = 2$$

 のかず

こたえ



こ

