



たしざんと  
ひきざん 6

● どんぐりはなんこ？  
(きゅうしょう)



日にち： 月 日

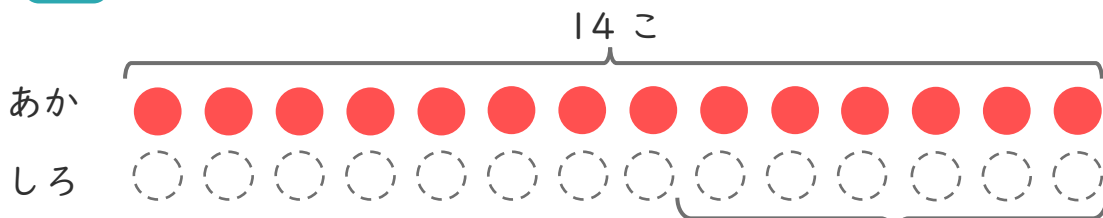
名まえ \_\_\_\_\_

1 あかいたまが 14こ あります。

しろいたまは、あかいたまより 6こ すくないそうです。

①  にあうかずをかきましょう。

にいろをぬりましょう。



こすくない

② しろいたまはなんこ ありますか。

しき：

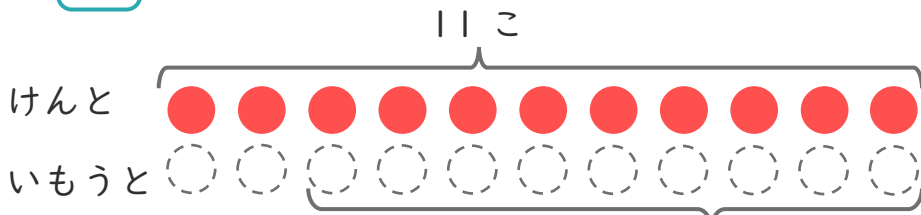
こたえ {

2 けんとさんは どんぐりを 11こ ひろいました。

いもうとは、けんとさんより 9こ すくなかったそうです。

①  にあうかずをかきましょう。

にいろをぬりましょう。



こすくない

② いもうとは、なんこ ひろいましたか。

しき：

こたえ {





たしざんと  
ひきざん 6

● どんぐりはなんこ?  
(きゅうしょう)



日にち： 月 日

名まえ \_\_\_\_\_

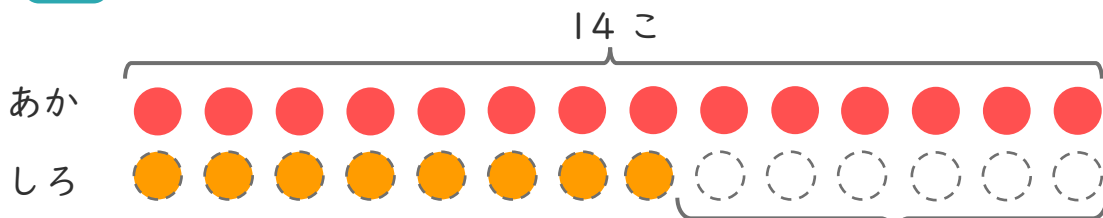
1

あかいたまが 14こ あります。

しろいたまは、あかいたまより 6こ すくない そうです。

①  にあう かずを かきましょう。

○ にいろを  
ぬりましょう。



6こ すくない

② しろいたまは なんこ ありますか。

しき： $14 - 6 = 8$

こたえ  $\left( \begin{array}{c} 8 \\ \text{こ} \end{array} \right)$

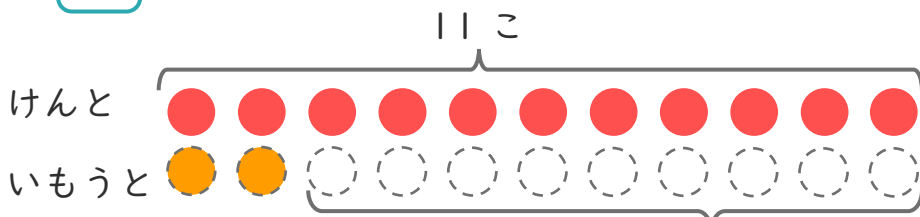
2

けんとさんは どんぐりを 11こ ひろいました。

いもうとは、けんとさんより 9こ すくなく かった そうです。

①  にあう かずを かきましょう。

○ にいろを  
ぬりましょう。



9こ すくない

② いもうとは、なんこ ひろいましたか。

しき： $11 - 9 = 2$

こたえ  $\left( \begin{array}{c} 2 \\ \text{こ} \end{array} \right)$

