



のこりはいくつ 4

● のこりはいくつ?
(きゅうほ)



日にち： 月 日

名まえ _____

・ しきにかいて きたえましょう。

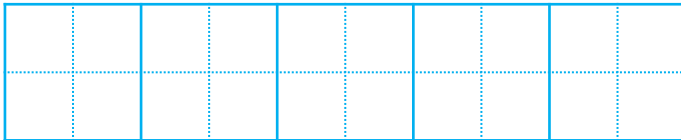
① くろと あかの きんぎょが ぜんぶで 6 ひき います。

くろい きんぎょは 2 ひき います。

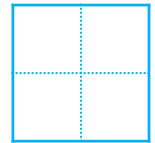
あかい きんぎょは なんびき いますか。



しき



きたえ



ひき

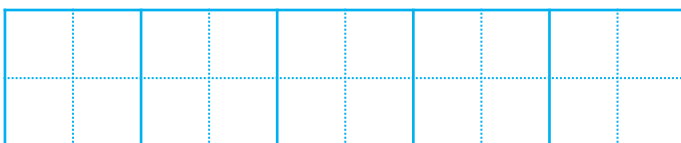
② いぬと ねこが ぜんぶで 5 ひき います。

いぬは 4 ひき います。

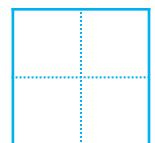
ねこは なんびき いますか。



しき



きたえ



ひき





のこりはいくつ 4

● のこりはいくつ?
(きゅうほ)



日にち： 月 日

名まえ _____

・ しきにかいて こたえましょう。

① くろとあかのきんぎょがぜんぶで6ひきいます。

くろいきんぎょは2ひきいます。

あかいきんぎょはなんびきいますか。



しき

$$6 - 2 = 4$$

こたえ



ひき

② いぬとねこがぜんぶで5ひきいます。

いぬは4ひきいます。

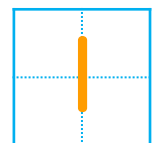
ねこはなんびきいますか。



しき

$$5 - 4 = 1$$

こたえ



ひき

