



たしざんと
ひきざん 5

● みかんのあめはなんこ?
(きゅうだい)



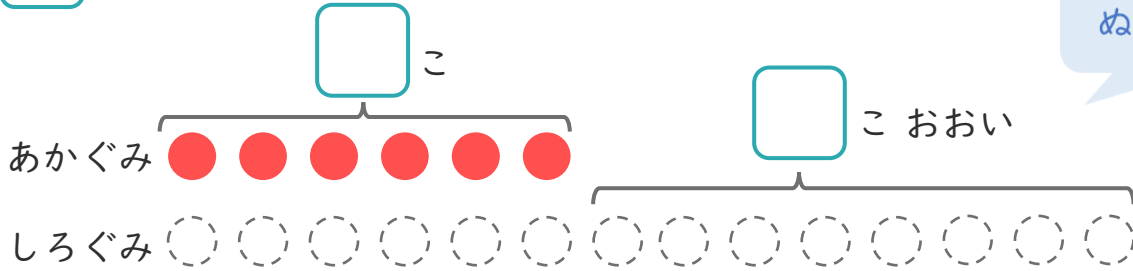
日にち： 月 日

名まえ _____

1 たまいれをしました。あかぐみは、6こはいました。
しろぐみは、あかぐみより8こおいそです。

① □にあうかずをかきましょう。

○にいろをぬりましょう。



② しろぐみは、なんこはいましたか。

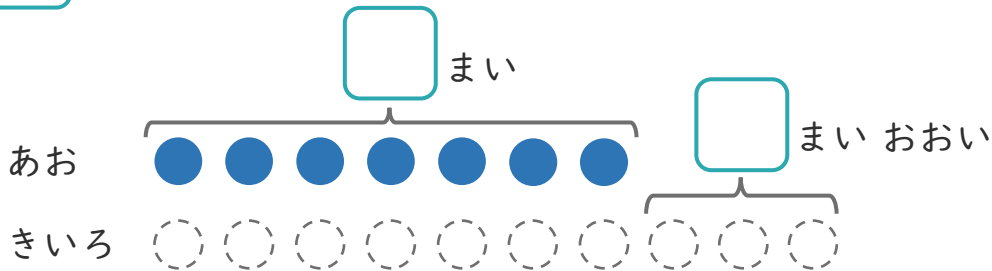
しき：

こたえ {

2 あおいかみを7まいかいました。きいろいかみは、
あおいかみより3まいおおくかいました。

① □にあうかずをかきましょう。

○にいろをぬりましょう。



② きいろいかみはなんまいかいましたか。

しき：

こたえ {





たしざんと
ひきざん 5

● みかんのあめはなんこ?
(きゅうだい)



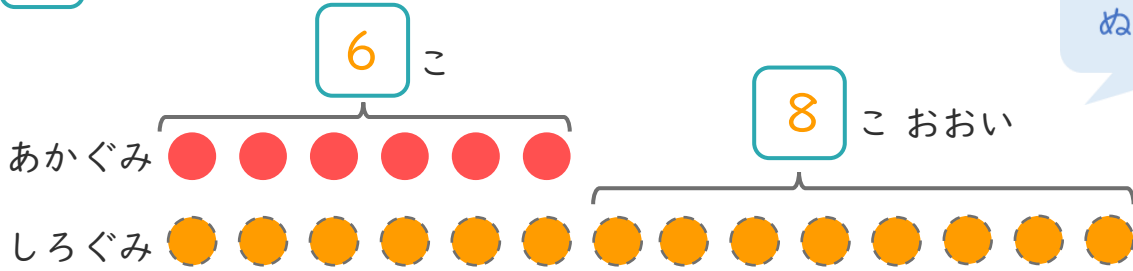
日にち： 月 日

名まえ _____

1 たまいれをしました。あかぐみは、6こはいりました。
しろぐみは、あかぐみより8こおいそです。

① □ にあうかずをかきましょう。

○ にいろをぬりましょう。



② しろぐみは、なんこはいりましたか。

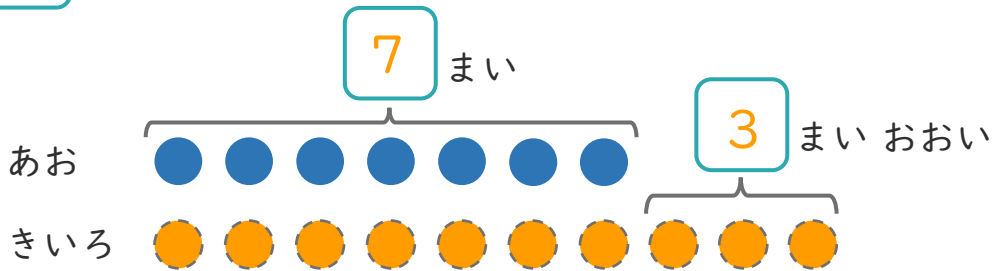
しき： $6 + 8 = 14$

こたえ { 14 こ }

2 あおいかみを7まいかいました。きいろいかみは、
あおいかみより3まいおおくかいました。

① □ にあうかずをかきましょう。

○ にいろをぬりましょう。



② きいろいかみはなんまいかいましたか。

しき： $7 + 3 = 10$

こたえ { 10 まい }

