




どちらがおおい③

● コップで なんばい
はいりますか？



日にち： 月 日


名まえ _____

・ みずが  のかずだけはいります。


① あ




② い




③ う




①  で なんばい はいりますか。

① あ... はい ② い... はい ③ う... はい

② ①と②では、どちらがどれだけおおくはいりますか。

のほうが、 で はいぶん おおく はいる。

③ ①と③では、どちらがどれだけおおくはいりますか。

のほうが、 で はいぶん おおく はいる。






どちらがおおい③

● コップで なんばい
はいりますか？



日にち： 月 日


名まえ _____

・ みずが  のかずだけはいります。


① あ




② い



③ う



①  で なんばいはいりますか。

① あ... $\left[1 \right]$ はい ② い... $\left[8 \right]$ はい ③ う... $\left[4 \right]$ はい

② ①と②では、どちらがどれだけおおくはいりますか。

$\left[\text{い} \right]$ のほうが、 で $\left[7 \right]$ はいぶんおおくはいる。

③ ①と③では、どちらがどれだけおおくはいりますか。

$\left[\text{う} \right]$ のほうが、 で $\left[3 \right]$ はいぶんおおくはいる。

