



くりあがりのある
たしざん 8

● えとぶんしょうから
しきをつくろう



日にち： 月 日

名まえ _____

1 けえきは あわせて なんこ ですか。しきをかきましょう。



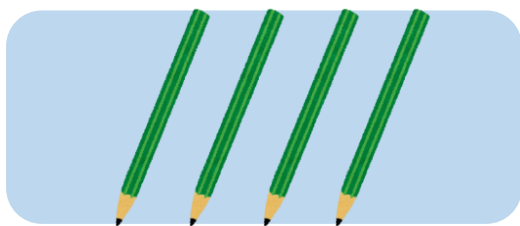
8 こ




3 こ

しき： + =

2 えんぴつは あわせて なんほん ですか。しきをかきましょう。



4 ほん



9 ほん

しき： + =



くりあがりのある
たしざん 8

● えとぶんしょうから
しきをつくろう



日にち： 月 日

名まえ _____

1 けえきは あわせて なんこ ですか。しきをかきましょう。



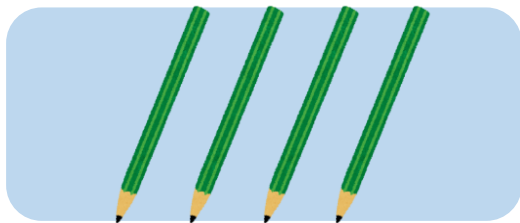
8 こ




3 こ

しき： $\boxed{8} + \boxed{3} = \boxed{11}$

2 えんぴつは あわせて なんほん ですか。しきをかきましょう。



4 ほん



9 ほん

しき： $\boxed{4} + \boxed{9} = \boxed{13}$