



あわせていくつ4

◎ あとからふえる

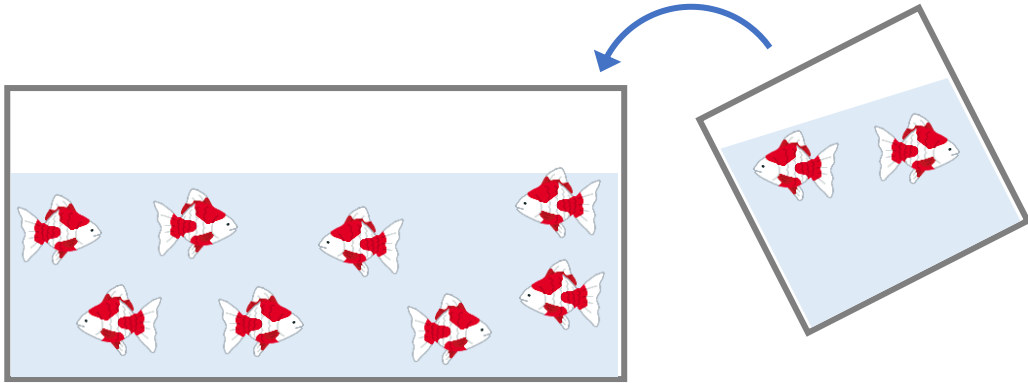


日にち： 月 日

名まえ _____

・ しきにかいてこたえましょう。

① きんぎょが 8匹 いました。あとから 2匹 いました。
きんぎょは ぜんぶで なん匹 になったでしょう。

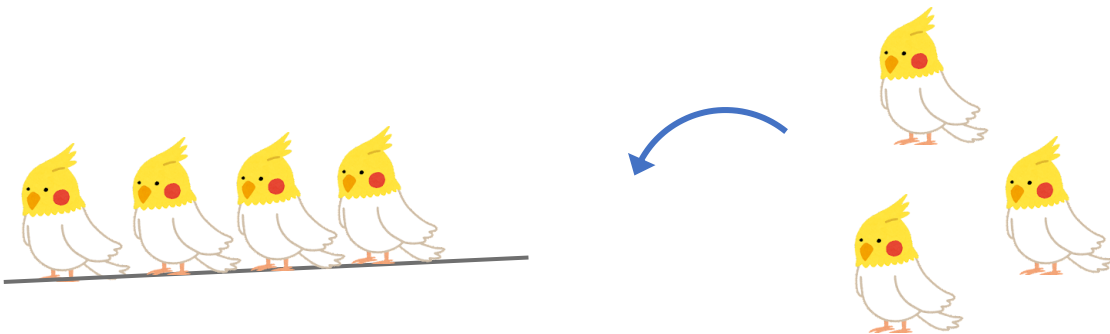


しき

こたえ

 ぴき

② とりが 4わ いました。あとから 3わ きました。
とりは ぜんぶで なんわ になりましたか。



しき

こたえ

 わ





あわせていくつ4

◎ あとからふえる

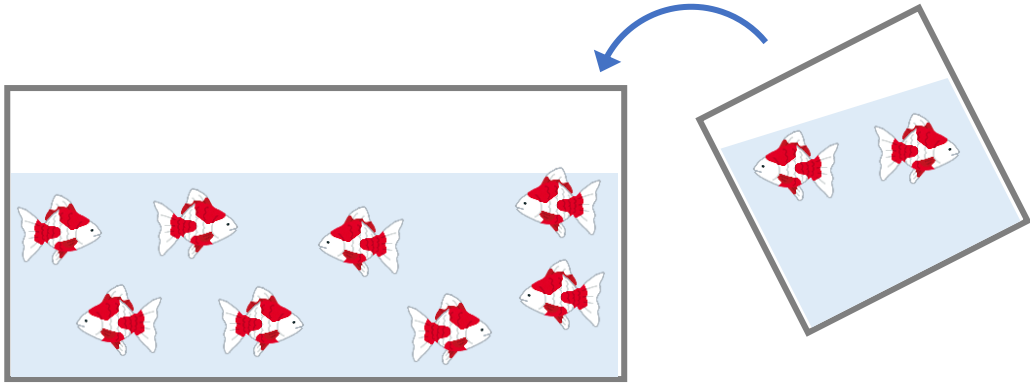


日にち： 月 日

名まえ _____

・ しきにかいてこたえましょう。

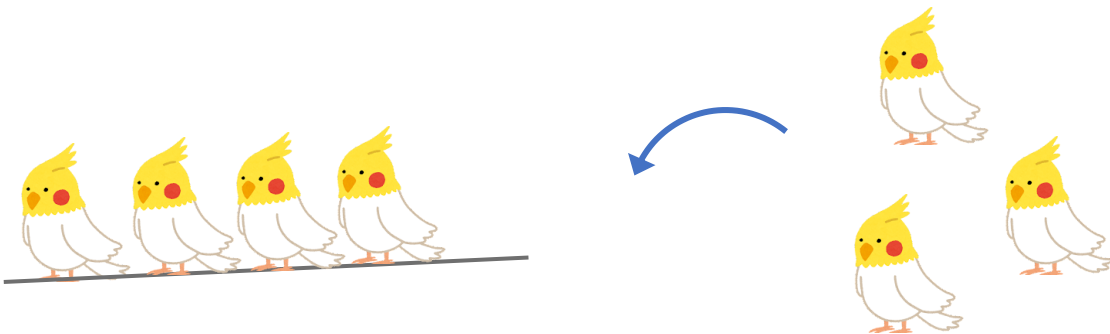
① きんぎょが 8ぴき いました。あとから 2ひき いました。
きんぎょは ぜんぶで なんびき になったでしょう。



しき $8 + 2 = 10$

こたえ 10 ぴき

② とりが 4わ いました。あとから 3わ きました。
とりは ぜんぶで なんわ になりましたか。



しき $4 + 3 = 7$

こたえ 7 わ

