




なまづくりとかず 12

● あわせて10になるかず



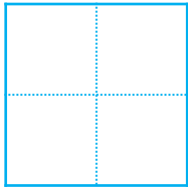
日にち： 月 日

名まえ _____

・ いくつでしょう。  にすうじをかきましょう。

①

10



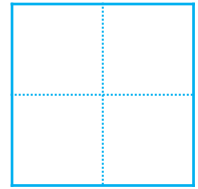
8



③

10

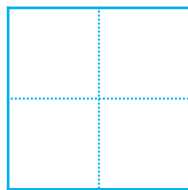
6



②

10


3



④

10

5






なまづくりとかず 12

あわせて10になるかず



日にち： 月 日

名まえ _____

・ いくつでしょう。  にすうじをかきましょう。

①

10



8



③

10


6



②


10

3



④

10



5

