




なかまづくりとかず3

● いくつでしょう？
(5までのかず)

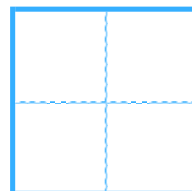



日にち： 月 日

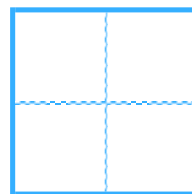
名まえ _____

・ いくつでしょう。  にすうじをかきましょう。

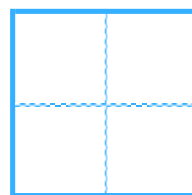

①



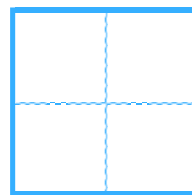

②



③



④






なかまづくりとかず 3

● いくつでしょう？
(5までのかず)

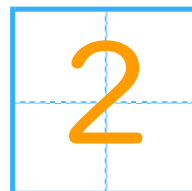



日にち： 月 日

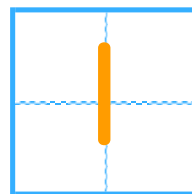
名まえ _____

・ いくつでしょう。  にすうじをかきましょう。

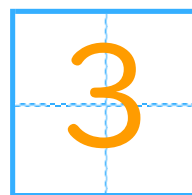

①



②



③



④

