



あわせていくつ？

いろいろなかずのたしざん

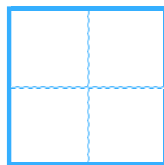


日にち： 月 日

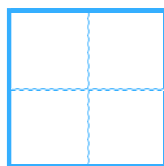
名まえ _____

・ たしざんをしましょう。

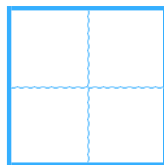
① $4 + 6 =$



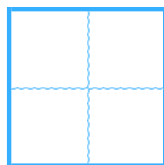
② $5 + 3 =$



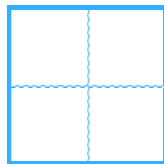
③ $8 + 2 =$



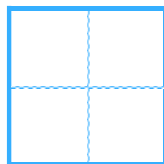
④ $6 + 3 =$



⑤ $4 + 1 =$



⑥ $7 + 3 =$





あわせていくつ？

いろいろなかずのたしざん



日にち： 月 日

名まえ _____

・ たしざんを しましょう。

$① \quad 4 + 6 =$

10

$② \quad 5 + 3 =$

8

$③ \quad 8 + 2 =$

10

$④ \quad 6 + 3 =$

9

$⑤ \quad 4 + 1 =$

5

$⑥ \quad 7 + 3 =$

10

