

たしざんと
ひきざん 2

● うしろはなんにん?
(ならびじゆん・きゆうほ)

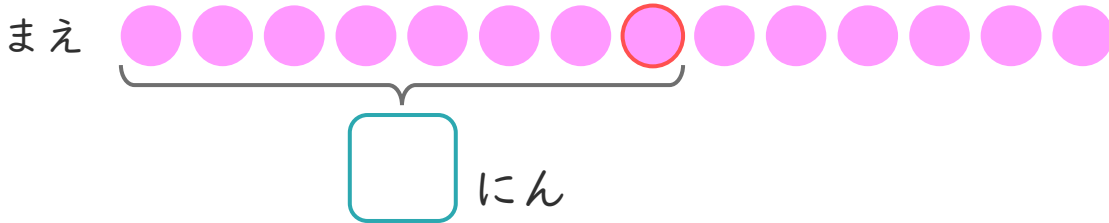


日にち： 月 日

名まえ _____

1 パンやさんに14にん ならんでいます。
かなたさんは まえから 8ばんめに います。

① に あう かず を かき まし ょう。



② かなたさんの うしろには なんにん いますか。

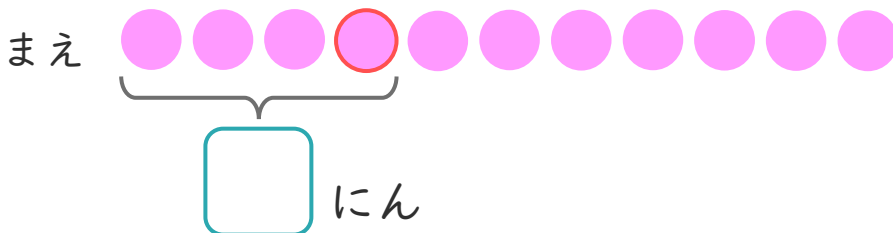
しき：

こたえ

2 きしゃに 11にん のって います。

みなみさんは まえから 4ばんめに います。

① に あう かず を かき まし ょう。




② みなみさんの うしろには なんにん いますか。

しき：

こたえ





たしざんと
ひきざん 2

● うしろはなんにん?
(ならびじゅん・きゅうほ)

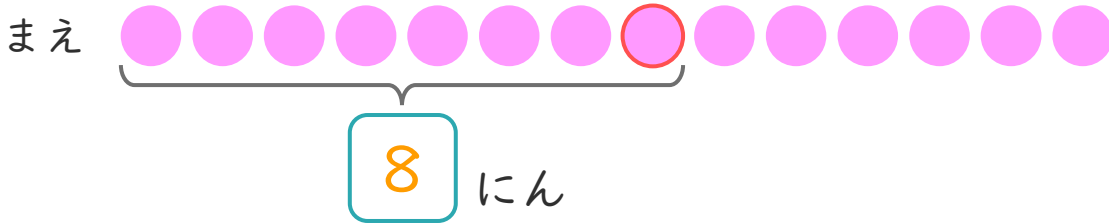


日にち： 月 日

名まえ _____

1 パンやさんに14にん ならんでいます。
かなたさんはまえから8ばんめにいます。

① にあうかずをかきましょう。



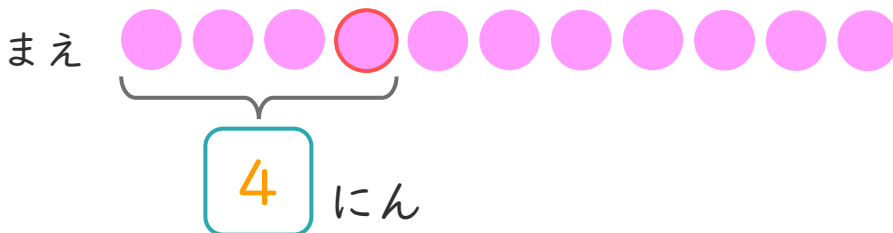
② かなたさんの うしろにはなんにん いますか。

しき： $14 - 8 = 6$

こたえ $\left(\begin{array}{c} 6 \\ \text{にん} \end{array} \right)$

2 きしゃに11にん のっています。
みなみさんはまえから4ばんめにいます。

① にあうかずをかきましょう。



② みなみさんの うしろにはなんにん いますか。

しき： $11 - 4 = 7$

こたえ $\left(\begin{array}{c} 7 \\ \text{にん} \end{array} \right)$

