



くりさがりのある
ひきざん 8

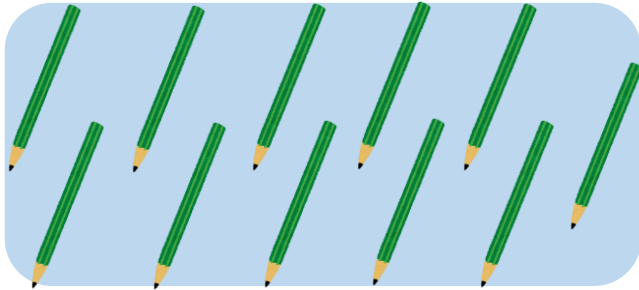
えとぶんしょうから
しきをつくろう



日にち： 月 日

名まえ _____

1 のこりは なんぼんですか。しきをかきましょう。




4ほんつかうと

11ほん

しき： - =

2 のこりは なんこですか。しきをかきましょう。



8こたべると

14こ

しき： - =





くりさがりのある
ひきざん 8

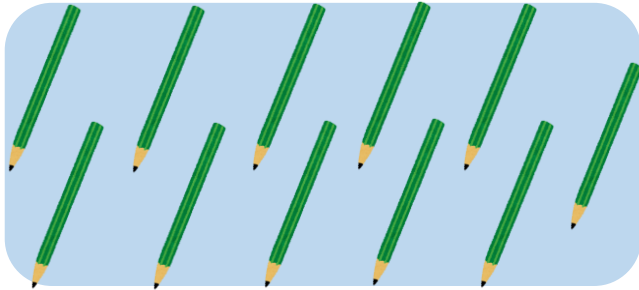
● えとぶんしょうから
しきをつくろう



日にち： 月 日

名まえ _____

1 のこりは なんぼんですか。しきをかきましょう。




11ぼん

4ほんつかうと

しき： $\boxed{11} - \boxed{4} = \boxed{7}$

2 のこりは なんこですか。しきをかきましょう。



14こ

8こたべると

しき： $\boxed{14} - \boxed{8} = \boxed{6}$

