



のこりはいくつ！

● えをみてかんがえよう

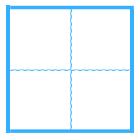
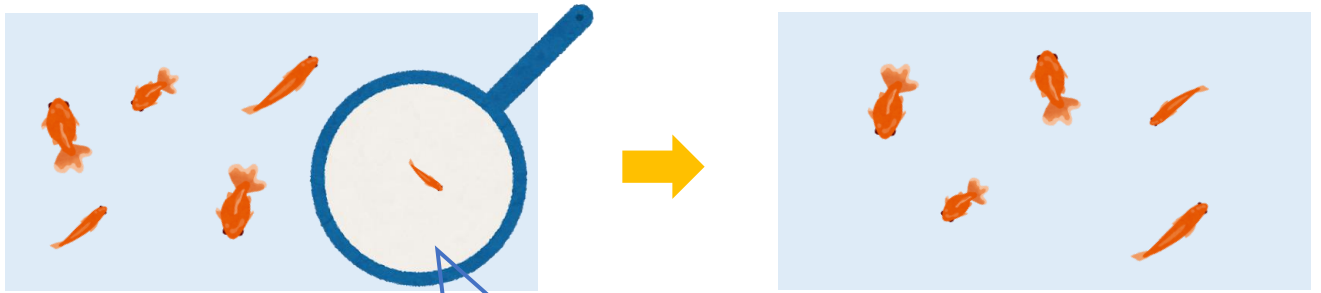


日にち： 月 日

名まえ _____


・ きんぎょがいます。すくうとのこりはなんびきでしょう。

①



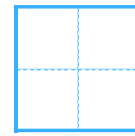
ぴき

いる



ぴき

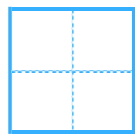
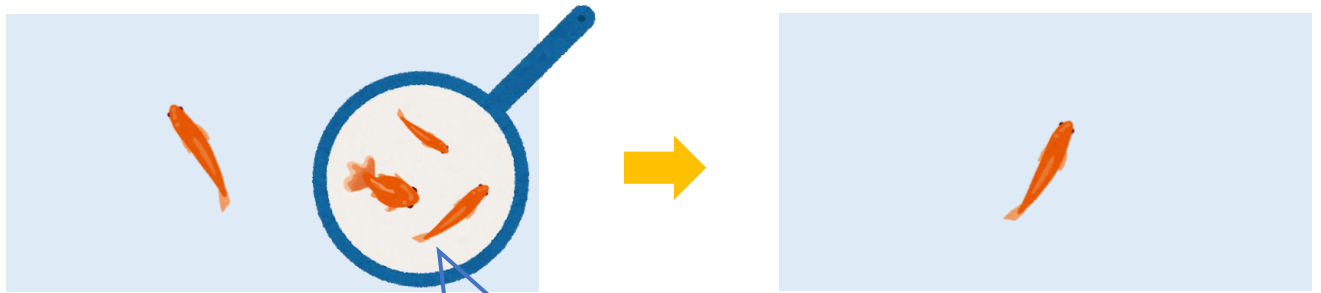
すくう



ひき

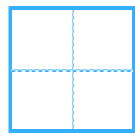
のこり

②



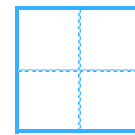
ひき

いる



びき

すくう



ぴき

のこり





のこりはいくつ！

えをみてかんがえよう

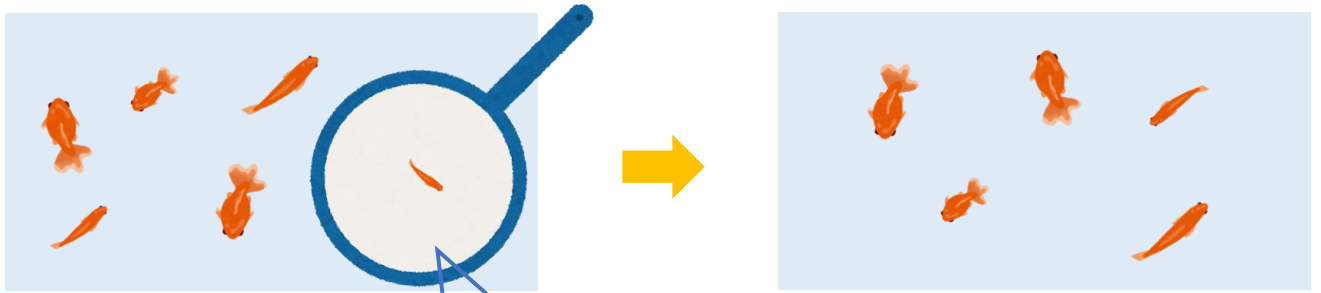


日にち： 月 日

名まえ _____

・ きんぎょがいます。すくうとのこりはなんびきでしょう。

①

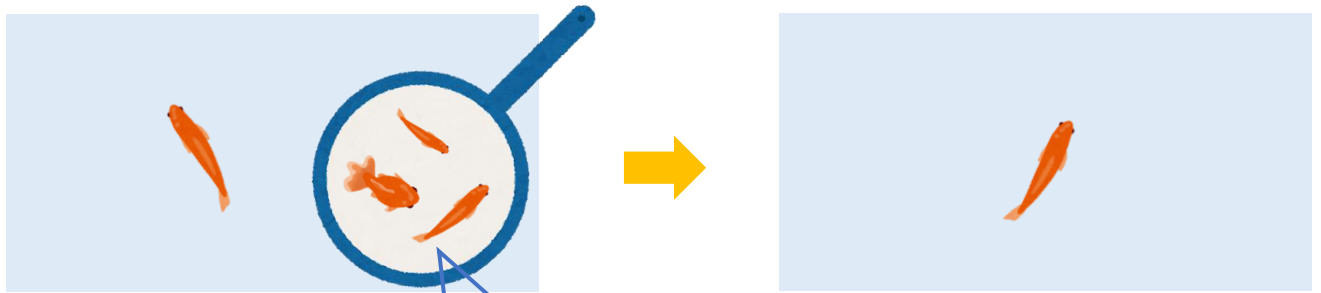


6 びき
いる

1 びき
すくう

5 びき
のこり

②



4 びき
いる

3 びき
すくう

1 びき
のこり

