



のこりはいくつ！

● えをみてかんがえよう

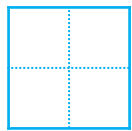




日にち： 月 日

名まえ _____

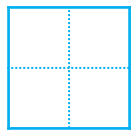
・ きんぎょがいます。すくうとのこりはなんびきでしょう。

①



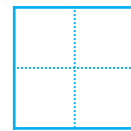
びき

いる



びき

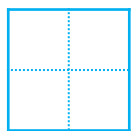


すくう



ひき

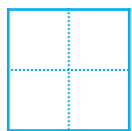
のこり

②



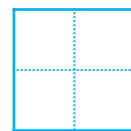
ひき

いる



びき

すくう



びき

のこり





のこりはいくつ！

● えをみてかんがえよう

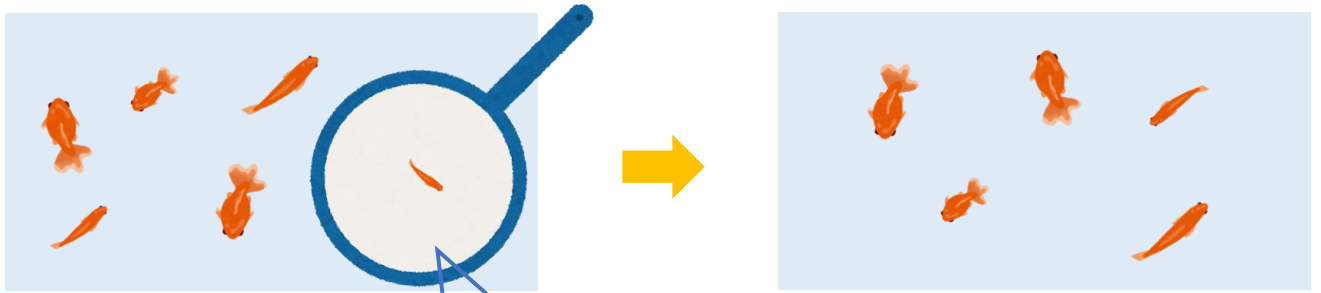


日にち： 月 日

名まえ _____

・ きんぎょがいます。すくうとのこりはなんびきでしょう。

①

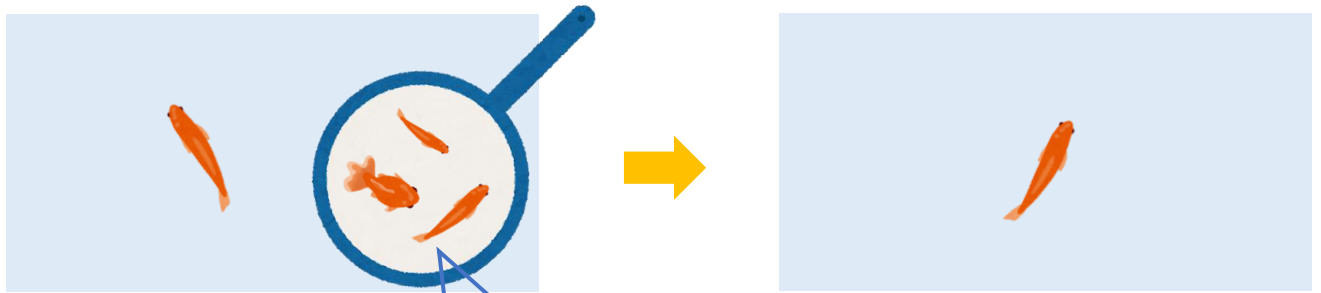


6 びき
いる

1 びき
すくう

5 ひき
のこり

②



4 ひき
いる

3 びき
すくう

1 びき
のこり

