



くりあがりのある  
たしざん 2

● くりあがりのけいさん  
(9 と たす)

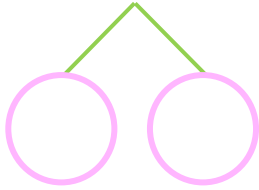


日にち：            月            日

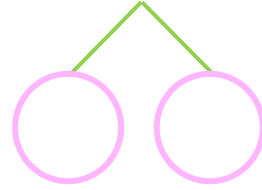
名まえ \_\_\_\_\_

・ けいさんをしましょう。

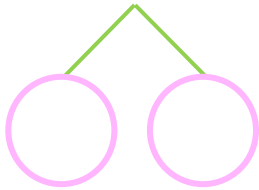
①  $9 + 5 =$



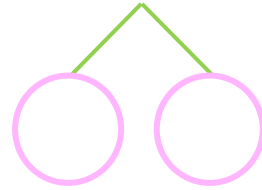
⑤  $9 + 6 =$



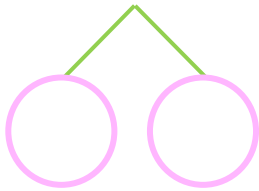
②  $9 + 8 =$



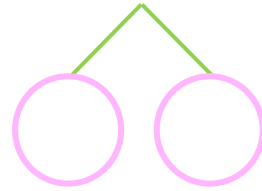
⑥  $9 + 9 =$



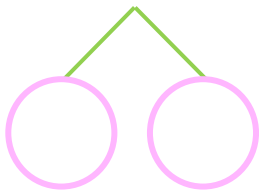
③  $9 + 3 =$



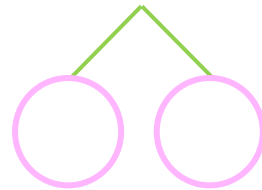
⑦  $9 + 2 =$



④  $9 + 4 =$



⑧  $9 + 7 =$





くりあがりのある  
たしざん 2

● くりあがりのけいさん  
(9 と たす)



日にち：      月      日

名まえ \_\_\_\_\_

・ けいさんをしましょう。

①  $9 + 5 = 14$   
10   1   4

⑤  $9 + 6 = 15$   
10   1   5

②  $9 + 8 = 17$   
10   1   7

⑥  $9 + 9 = 18$   
10   1   8

③  $9 + 3 = 12$   
10   1   2

⑦  $9 + 2 = 11$   
10   1   1

④  $9 + 4 = 13$   
10   1   3

⑧  $9 + 7 = 16$   
10   1   6

