



くりあがりのある  
たしざん 4

● くりあがりのけいさん  
(7とたす)

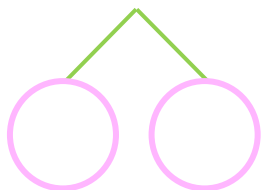


日にち：            月            日

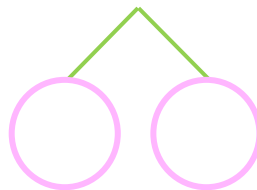
名まえ \_\_\_\_\_

・ けいさんをしましょう。

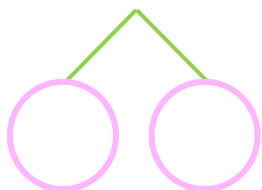
①  $7 + 9 =$



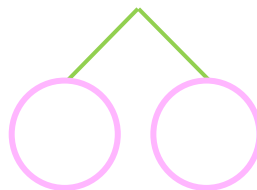
⑤  $7 + 6 =$



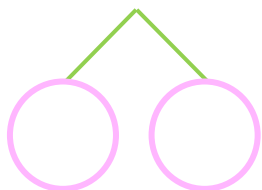
②  $7 + 4 =$



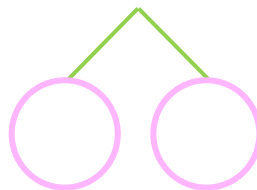
⑥  $7 + 8 =$



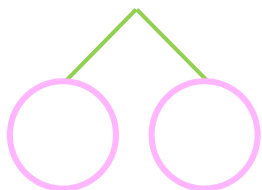
③  $7 + 5 =$



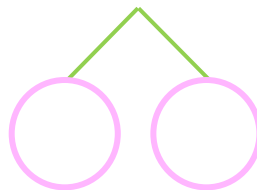
⑦  $7 + 7 =$



④  $7 + 7 =$



⑧  $7 + 9 =$





くりあがりのある  
たしざん 4

● くりあがりのけいさん  
(7とたす)



日にち：        月        日

名まえ \_\_\_\_\_

・ けいさんをしましょう。

①  $7 + 9 = 16$   
10   3   6

⑤  $7 + 6 = 13$   
10   3   3

②  $7 + 4 = 11$   
10   3   1

⑥  $7 + 8 = 15$   
10   3   5

③  $7 + 5 = 12$   
10   3   2

⑦  $7 + 7 = 14$   
10   3   4

④  $7 + 7 = 14$   
10   3   4

⑧  $7 + 9 = 16$   
10   3   6

