



くりあがりのある  
たしざん 10

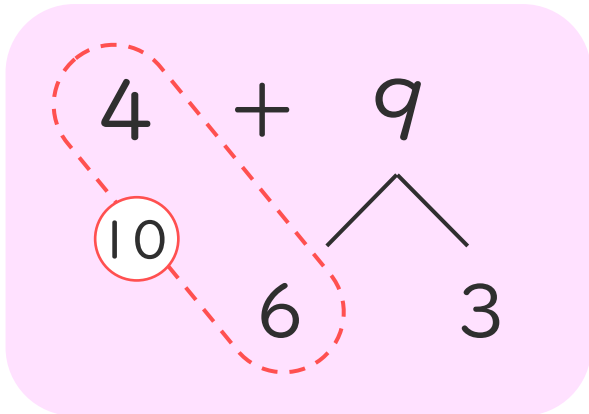
● けいさんのしかたを  
かんがえよう



日にち： 月 日

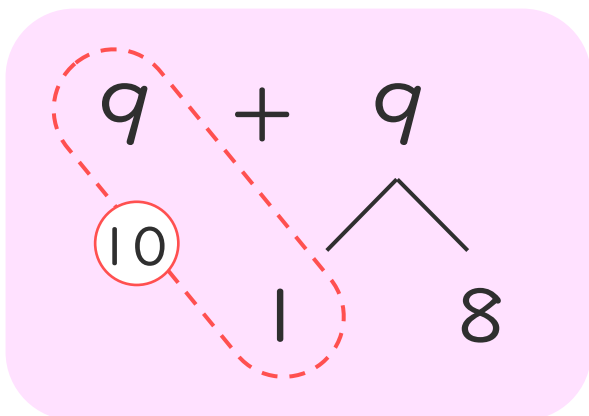
名まえ \_\_\_\_\_

- ・  $4 + 9$  のけいさんのしかたをかんがえます。  
□にあうかずをかきましょう。



- ① 4はあと □ で 10。
- ② 9を □ と 3にわける。
- ③ 4に □ をたして 10。
- ④ 10と □ で 13。

- ・  $9 + 9$  のけいさんのしかたをかんがえます。  
□にあうかずをかきましょう。



- ① 9はあと □ で 10。
- ② 9を □ と 8にわける。
- ③ 9に □ をたして 10。
- ④ 10と □ で 18。





くりあがりのある  
たしざん 10

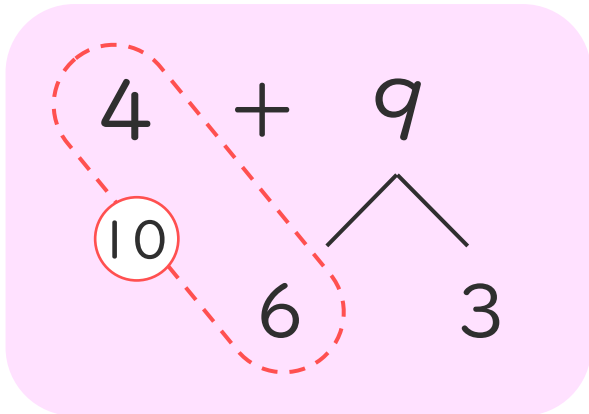
● けいさんのしかたを  
かんがえよう



日にち： 月 日

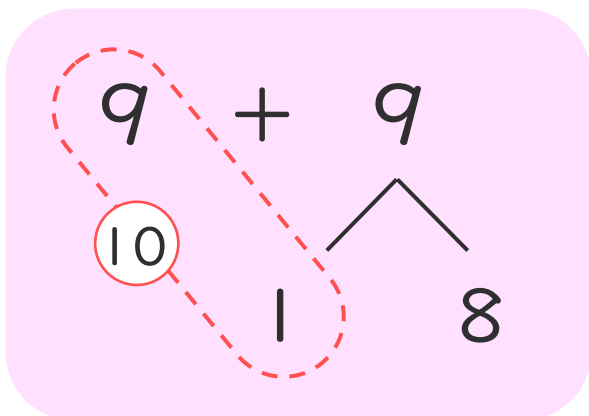
名まえ \_\_\_\_\_

- ・  $4 + 9$  のけいさんのしかたをかんがえます。  
□にあうかずをかきましょう。



- ① 4はあと  で10。
- ② 9を  と3にわける。
- ③ 4に  をたして10。
- ④ 10と  で13。

- ・  $9 + 9$  のけいさんのしかたをかんがえます。  
□にあうかずをかきましょう。



- ① 9はあと  で10。
- ② 9を  と8にわける。
- ③ 9に  をたして10。
- ④ 10と  で18。

